

**Всероссийская олимпиада школьников по истории
2023/24 учебный год
Школьный этап**

Задания для участников 5-х классов

Шифр КС-5-33

Инструкция по выполнению работ
Время на выполнение работы – 45 минут.
Максимальное количество баллов – 75.

Уважаемый участник!

При выполнении работы внимательно читай текст заданий. Содержание ответа вписывай в отведённые поля, делая вещи четко и разборливо.

За каждый правильный ответ можно получить определенное количество баллов, но не выше указанной максимальной оценки. Сумма набранных баллов за все решенные вопросы – итог работы.

Задания считаются выполненными, если Вы их перебрали и дали их членам жюри.
Желаем успеха!

Таблица для внесения баллов заполняется членами жюри

1	2	3	4	5	6	7	8	9	10	Общая сумма баллов	Место
2	6	5	6	8	6	8	2	3	5	57	наблюдатель/мл.

Задание 1. (Максимум за задание – 3 балла). Перед вами фотографии, иллюстрирующие различные эпохи истории человечества. Выберите номера изображений, связанных с историей Древнего мира.

1 2



3 4



5

6



2. Ответ: 1 4 6

Задание 2. (Максимум за задание – 6 баллов, за каждую правильную ответ – 1 балл). Верны ли следующие утверждения («да» – «нет»)? Ответы внесите в таблицу.

- 2.1. Около 2,5 м.л. лет назад появились люди, по своему облику похожие на современного человека.
- 2.2. Самая широтная эпоха в истории человечества – Ниние время.
- 2.3. Золото было основным металлом, из которого производили орудия труда первобытные люди.
- 2.4. Коллектив кровных родственников назывался родовой общиной.
- 2.5. Люди эпохи палеолита уже умели пользоваться огнем.
- 2.6. Первыми одомашненным животным были лошади.

Ответ:

2.1	+	2.2	+	2.3	+	2.4	+	2.5	+	2.6	+
нет		нет		нет		да		да		нет	

Задание 3. (Максимум за задание – 3 балла). Расставьте годы и века в верной хронологической последовательности.

- 1) II век до н.э. 2) 178 год до н.э. 3) 1945 год н.э. 4) XII век н.э. 5) 2023 год н.э.

Ответ:

А	Б	В	Г	Д
2	1	4	3	5

Задание 4. (Максимум за все задание 12 баллов). Перед вами различные изобретения человека, созданные им с древнейших времён до наших дней. Рассмотрите изображения и выпишите задания.



3



4



5 6



4.1. Сопоставьте изображения предметов с их названиями.

Номер изображения предмета	Название изобретения
1	А. персональный компьютер
2	Б. паровой двигателя (паровая машина)
3	В. бензиновый двигатель внутреннего сгорания
4	Г. деревянный плуг
5	Д. станок
6	Е. ручной книгопечатный станок

Ответ:

1 +	2 +	3 +	4 +	5 +	6 +	6
Б	В	Г	Д	Е	А	

Максимум за задание - 6 баллов. За каждую верную пару - 1 балл

4.2. Расположите представленные предметы в порядке их изобретения человечком. В таблицу ниже запишите буквы, которыми обозначены названия данных изобретений.

Ответ:

1	2	3	4	5	6	6
А	Б	В	Г	Д	Е	

Максимум за задание - 6 баллов. За каждую верную пару - 1 балл

Задание 5. (Максимум за всё задание 5 баллов) Перед вами фотографии, иллюстрирующие деятельность историков.

5.1. Выберите номера изображений, связанных с работой археологов и запишите их.


1	2
---	---



1



4



5



6



3 5.1 Ответ: 4, 3, 5 Максимум за задание – 3 балла.

5.2. Выберите верные и неверные утверждения. Ответы («да» - «нет») внеси в таблицу.

1. Все профессии ученых, изображенных на картинке, связаны с археологией.
2. Работы этих ученых связаны с изучением жизни современных людей.
3. В своей работе ученые - археологи используют лопаты и вилочки.
4. В ходе работы ученые проводят раскопки.
5. Ученые этой профессии изучают здания, украшения, различные рисунки, украшения, оружие.

Ответ:

	1	+	2	+	3	+	4	+	5	+
5	нет		нет		да		да		да	

Максимум за задание – 5 баллов. За каждое верно выбранное утверждение – 1 балл.

Задание 6. (Максимум за задание - 5 баллов. 2 балла за каждый правильный ответ). Прочитайте описание потребности, обнаруженного археологами на ледниковой стоянке Сунарь во Владимирской области.

«Изредка потребность, распластанные под пергам, принадлежали перрскому оружию. Школьных лежал на спине в выпянутом положении. При нем были полкастл временной пош, серебро и обломок костяного предмета. Скелет был густо засыпан охрой, и на нем лежали многоклетчатые бусы из бивня мамонта. Размещенные бус, сохранившие первоначальное положение, позволили реконструировать одежду. Костюм состоял из нераспашной рубахи, плаща, оленьих с обувью, и, возможно, плаща. На голове была надета шапка, бивня украшенная бусами из

бивня и просверленных втулок кости. На руках были тонкие браслеты из бивня и штыря бус. Под кокетками и на шпалотках также проследовали перевязки из слезок бус. По штурепной стороне шол палптыг бусы образовывали шштыг лампасы, соединяющие птаны и буря. Весто были шшшшо свалго 3 500 бусок.

Что можно из этого ошкстия узнать о жизни, занятиях, верованиях людей, которые оставили этог памятник? Сделайте 3 втвора.

1. Во тавога шкшш бршшш чтог шкшш шкшшш шкшшш в шкшшш шкшшшш и шкшшшш с шкшшш бршшш шкшшшш шкшшшш в шкшшшш шкшшшш.
2. Шкшшш шкшшш шкшшш бршшш шкшшшш шкшшшш шкшшшш шкшшшш шкшшшш.
3. Шкшшш шкшшшш шкшшшш. Шкшшшш шкшшшш шкшшшш шкшшшш шкшшшш шкшшшш.

Задание 7. Максимум за задание 16 баллов, по 2 балла за каждую найденную и исправленную ошибку. Найдите 8 исторических ошибок в описании утвари и исправьте их, записав таблицу.

Около 12 тысяч лет назад в природе ничего не изменилось. Холоднело, ледник стал быстро таять и отступал на юг. Приспособиться к новым условиям было легко и просто. Ломался каменный удар; камни. Пришлось осваивать охоту на крупного животного зверя. Люди стали собираться в дружные группы, как комбы. В поисках пищи человеку надо было оставаться на одном месте. Были изобретены шерош механические пружине - дошь с каменным накопчиком.

	Ошибка	Исправление	
1	Не изменилось	Изменилось	+
2	Легко и просто	Было тяжело	-
3	Ломался	Не ломался	-
4	Осваивать	Начали	+
5	Крупные	Маленькие	+
6	На одном месте	надо было искать	+
7	Механической пружине	орудие труда	-
8			

Задание 8. (Максимум за задание – 5 баллов)

Решите задачи. ОБЯЗАТЕЛЬНО напишите арифметические действия.

1) В 1900 году археологами был раскопан мегалитический вождя, где найдены останки бус из драгоценных камней, золотые и серебряные сосуды. Установлено, что захоронение было сделано за 7210 лет до н.э. Сколько лет до н.э. был захоронен вождя? Запишите решение и ответ. (3 балла)

Решение $7210 - 1900 = 5310$ г. _____

Ответ: Был захоронен в 5310 г. до н.э.

2) Считается, что первую пирамиду золотой Ифхотеп начал строить в 2750 г. до н.э. Последние пирамиды построены в 1700 г. до н.э. Сколько лет прошло между постройкой первой и последней пирамиды? Сколько лет назад были построены последние пирамиды? Приешите свои вычисления. (3 балла)

Решение _____

Задание 9. (Максимум за задание – 5 баллов)

Прочитайте стихотворение В.Д. Вирстова. Выполните задания.

Раз первобытные дети Пошли в первобытный лес. И первобытные соище Глядели на них с небес. И встретили дети в чаще Неведомого зверька, Которого ни разу Не видели люди. Сказал первобытный папа: «Ну, что ж, похватайте с нипи. Купи он будет побольше, Мга вместо его съедим».	Папа. Первобытные люди Спят первобытным сном. А первобытные девочки, Крадуют во мраке ночном. Без первобытных людей Во мне безразличным таким. Как часто звериные брело Могилки делаются там. Но злых людейлов пошуки, Завыл и хищный зверёк.	И эти, люди первобытных От гибели он уберёт С папой ходит на охоту Он пачкал, когда подрост. Так дружок стал человеку Веселый и верный друг
---	--	--

9.1 Напишите, о каком событии сказано в стихотворении древних людей плёт рота. (1 балл)

приручение пещерного

0

9.2 Укажите, когда это событие произошло (1 балл)

в первобытные времена

0

9.3 Укажите не менее двух других животных, которых приручил человек в числе первых. (2 балла)


волк, олень и баран

2

9.4 Напишите на карте название материка, который первобытные герои стихотворения могут назвать своей «чужбиной». (1 балл)

Африка

1



Ответ:

облас	чум	нарты	лабаз
4	1	3	2

ВСЕГО 75 БАЛЛОВ.

**Всероссийская олимпиада школьников по истории
2023/24 учебный год
Школьный этап**

Задания для участников 5-х классов

Шифр ИС-5-04

Инструкции по выполнению работ
Время на выполнение работы – 45 минут.
Максимальное количество баллов – 75.

Уважаемый участник!

При выполнении работы внимательно читай текст заданий. Содержимое олимпиадного листа вписывай в отведенные поля, заявки веди четко и разборчиво.

За каждый правильный ответ можно получить определенное количество баллов, но не выше указанной максимальной оценки. Сумма набранных баллов за все решенные вопросы – итог работы.

Задания считаются выполненными, если Вы вовремя сдали их членам жюри.

Желаем успехов!

Таблица для внесения баллов заполняется членами жюри

1	2	3	4	5	6	7	8	9	10	Общая сумма баллов	Место
1	6	5	10	2	6	6	3	2	6	48	призер П.м.

Задание 1. (Максимум за задание – 3 балла). Перед вами фотографии, иллюстрирующие различные эпохи истории человечества. Выберите номера иллюстраций, связанных с историей Древнего мира.

1 2



3 4



5

6



1
 Ответ: 1, 2.

Задание 2. (Максимум за задание 6 баллов, за каждый правильный ответ 1 балл). Верны ли следующие утверждения («да» – «нет»)? Ответы запишите в таблицу.

- 2.1. Около 2,5 млн лет назад появились люди, по своему облику похожие на современного человека.
- 2.2. Самая длительная эпоха в истории человечества – Новое время.
- 2.3. Золото было основным металлом, из которого производили орудия труда первобытные люди.
- 2.4. Кустовая кровля их родственных называлась родовой общиной.
- 2.5. Люди эпохи палеолита уже умели пользоваться огнем.
- 2.6. Первым одомашненным животным была лошадь.

Ответ:

2.1	+	2.2	+	2.3	+	2.4	+	2.5	+	2.6	+	6
нет нет нет да да нет												


Задание 3. (Максимум за задание 5 баллов). Расставьте годы и века в верной хронологической последовательности.

- 1) II век до н.э. 2) 478 год до н.э. 3) 1945 год н.э. 4) XII век н.э. 5) 2023 год н.э.

Ответ:

А	В	Б	Г	Д	5
478 год до н.э.	II век до н.э.	XII век н.э.	1945 год н.э.	2023 год н.э.	

Задание 4. (Максимум за задание 12 баллов). Перед вами различные изображения человека, созданные им с древнейших времён до наших дней. Рассмотрите изображения и выполняйте задания.



3

4



5 6



4.1. Сопоставьте изображения предметов с их названиями.

Номер изображения предмета	Название изобретения
1	А. персональный компьютер
2	Б. паровой двигателя (паровая машина)
3	В. безлиповый двигатель внутреннего сгорания
4	Г. деревянный плуг
5	Д. пилуф
6	Е. ручной книгопечатный станок

Ответ:

1	2	3	4	5	6	6
Д	Б	Г	В	А	Е	

Максимум за задание – 6 баллов. За каждую верную пару – 1 балл

4.2. Расположите представленные предметы в порядке их изобретения человеком. В таблицу ниже выпишите буквы, которыми обозначены названия данных изобретений.

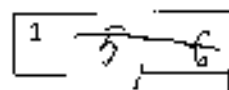
Ответ:

1	2	3	4	5	6	4
Д	Б	В	Г	А	Е	

Максимум за задание – 6 баллов. За каждую верную пару – 1 балл

Задание 5. (Максимум за все задание 8 баллов) Перед вами фотографии, иллюстрирующие деятельность историков.

5.1. Выберите номера изображений, связанных с работой археологов и зашифруйте их.



2



3



4



5



6



№ 5.1 Ответ: 3, 4, 5, 6 Максимум за задание – 3 балла

5.2. Выбери верные и неверные утверждения. Отметь («да» – «нет») всех в таблицу.

1. Все профессии ученых, изображенных на картинке, связаны с археологией.
2. Работа этих ученых связана с изучением жизни современных людей.
3. В своей работе ученые - археологи используют лопаты и кисточки.
4. В ходе работы ученые проводят раскопки.
5. Ученые этой профессии изучают здания, украшения, наскальные рисунки, захоронения, оружие.

Ответ:

1	2	3	4	5
нет	нет	да	да	да

Максимум за задание – 5 баллов. За каждый правильный ответ – 1 балл.

Задание 6. (Максимум за задание – 6 баллов, 2 балла за каждый правильный вывод). Прочитайте описание погребения, обнаруженного археологами на знаменитой стоянке Сунгирь во Владимирской области.

«Второе погребение, расположенное под пещерой, принадлежало взрослому мужчине. Покойник лежал на спине в вытянутом положении. При нем были положены кремневый нож, скребло и обломок костяного предмета. Скелет был густо засыпан охрой, а на нем лежали значительные бусы из бивня мамонта. Расположение бус, сохранивших первоначальное положение, позволило реконструировать одежду. Костюм состоял из распахнутой рубашки, плаща, соединенного с обувью, и, возможно, шлема. На голове были надеты платок, богато украшенный бусами из

бляхи и просверленных вкладышей пещи. На руках были тонкие браслеты из бляшек и ниски бус. Под колесницами и на пиксилах также просверлены перьяшки из слюды бус. На заднем ступе под нашивные бусы обшивались длинные лишайки, соединяющие штаты и обувь. Всего было нашито около 3 500 бусов.

Что можно из этого описания узнать о жизни, занятиях, верованиях людей, которые оставили этот захоронение? Сделайте 3 вывода.

1. Что люди жили тогда верили в страну Мертвых.
2. Что древние люди умели сделать бусы и другие украшения.
3. Что они тогда уже могли делать другие предметы.

Задание 7. (Максимум 20 баллов, по 2 балла за каждую найденную и исправленную ошибку). Найдите 8 исторических ошибок в описании ученика и исправьте их. Заполните таблицу.

Около 12 тысяч лет назад в природе ничего не изменилось. Похолодало, медведь стал быстро таять и отступать на юг. Приспособиться к новым условиям было легко и просто. Люди стали селиться в крупные пещеры, камакомбы. В поисках пищи человек начал оставаться на одном месте. Было изобретено первое механическое оружие - копьё с каменным наконечником.

Ошибка	Исправление
1 12 тысяч лет	100 тысяч лет
2	везде, также в лесах и в долине приходах
3 в пещерах и камакомбах	в пещерах и камакомбах, но не в камакомбах
4 приспособиться к ним	Приспособиться к новым
5 в крупных пещерах, камакомбах	пещерах, камакомбах, древних людей
6 надо было оставаться на одном месте	надо было искать пищу, уходить ради
7 первое механическое оружие - копье с каменным наконечником	
8	

Задача 8. (Максимум за задание – 3 балла)

Решите задачи. ОБЯЗАТЕЛЬНО напишите арифметические действия.

1) В 1900 году археологами был раскопан могильщик вождя, где найдены остатки бус из драгоценных камней, золотые и серебряные сосуды. Установлено, что захоронение было сделано за 7240 лет до его находки археологами. В каком году был захоронен вождь? Запишите решение и ответ. (2 балла)

Решение $7240 - 1900 = 5340$ (2000 г. до н.э.)

2) Считается, что первую пирамиду египетский Имхотеп начал строить в 2750 г. до н.э. Последняя пирамида построена в 1700 г. до н.э. Сколько лет прошло между построением первой и последней пирамиды? Сколько лет назад были построены последние пирамиды? Приведите свои вычисления. (3 балла)

Решение $2750 - 1700 = 1050$ (лет) ↑

Задача 9. (Максимум за задание – 3 балла)

Прочитайте стихотворение В.Д. Берестова. Выполните задания.

Раз первобытные дети
Поплы в первобытный лес.
И первобытно охотят
Глядело на них с небос.
И встретили дети в чаще
Неведомого зверька.
Какого ещё ни разу
Не видавали люди.
Сказал первобытный папа:
«Ну, что ж, погрозьте с ним.
Когда он будет побольше,
Мы вместе его съедим».

Ночь. Первобытные люди
Спит первобытных слов,
А первобытные люди,
Крадётся во мраке котенок.
Беда первобытных людей
Во сне беззащитны таким.
Как часто звериние брюки –
Моглою делалось им.
Но злых людостей тутути,
Залажал отважный зверёк.

И этим людям первобытных
От гибели он уберёт
С шилой когтишь на охоту
Он начал, когда шурис.
Так другом стал человеку
Восстал и первый лес

9.1 Подпишите, о кого/о чём/о каком животном идёт речь (1 балл)

Охотник

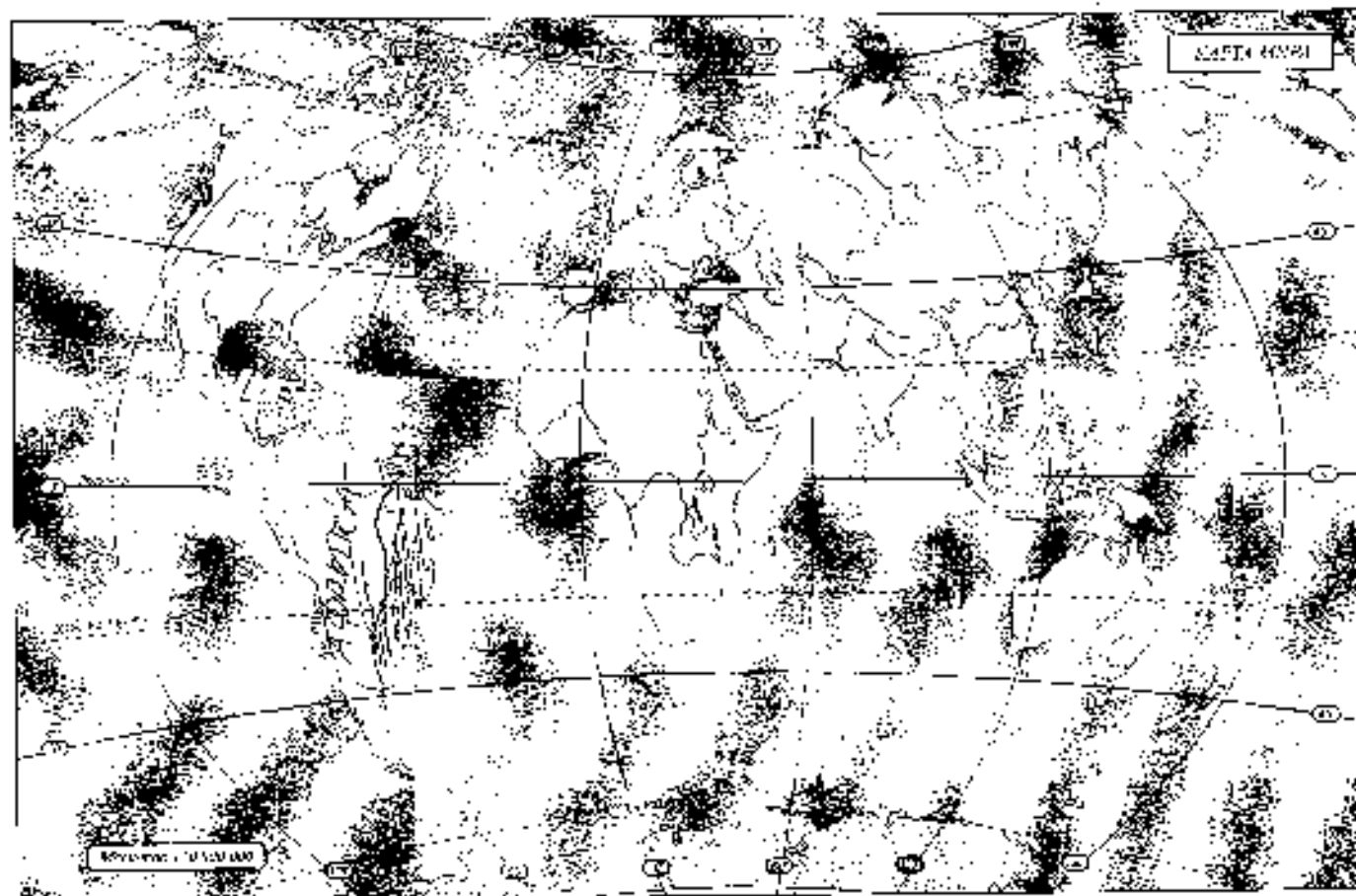
9.2 Укажите, когда это животное возникло (1 балл)

9.3 Укажите не менее двух других животных, которых приручил человек в числе первых. (2 балла)

собака, корова

9.4 Напишите на карте название материка, который первобытные герои стихотворения могут назвать своей «стародежкой». (1 балл)

Д



Задание 10. Выявни, насколько ты знаком с историей своей малой родины Югры. Максимум за задание – 9 баллов!

10.1. Коренные народы Югры – ханты, манси и таты – всегда относились к природе с любовью и уважением. Местом религиозногопочтения становились целые ландшафты в форме священных урочищ, где запрещались промыслы. Выбери священное место, где у коренных жителей Югры были запрещены промыслы. (2 балла)

1. Парная гора
2. Озеро Нумто
3. Баранья гора
4. Озеро Шульце

Ответ: 2, 3, 4 _____

2

10.2 Выбери из списка профессиональные праздники, особо значимые для жителей Югры. (3 балла)

1. День моряка-подводника
2. День металлурга
3. День нефтяника
4. День работника угольной промышленности
5. День строителя
6. День речного и морского флота

Ответ: 3, 5, 6 _____


3

10.3. Сопоставь названия предметов быта коренных народов Севера с изображениями этих предметов, вписав в таблицу их номера. (4 балла)

--	--	--	--



3



4



Ответ:

облас

тум

†

парты

лабаз

4

3

2

ВСЕГО 75 БАЛЛОВ.

Всероссийская олимпиада школьников по истории
2023/24 учебный год
Школьный этап

Задания для участников 5-х классов

Шифр ИСС-4 ИС-5-24

Инструкция по выполнению работ
 Время на выполнение работы – 45 минут.
 Максимальное количество баллов – 75.

Уважаемый участник!

При выполнении работы выделите лить текст задания. Содержание ответа вписывай в отведённое поле, записи ведё чётко и разборчиво.

За каждый правильный ответ можно получить определённое количество баллов, но не выше указанной максимальной оценки. Сумма набранных баллов за все решённые вопросы – итог работы.

Задания считаются выполненными, если Вы вовремя сдали их членам жюри.

Желаем успеха!

Таблица для внесения баллов заполняется членами жюри

1	2	3	4	5	6	7	8	9	10	Общая сумма баллов	Место
3	6	5	7	7	4	14	3	0	9	48	Кригер Т.М.

Задание 1. (Максимум за задание – 3 балла). Перед вами фотографии, иллюстрирующие различные эпохи истории человечества. Выберите номера изображений, связанных с историей Древнего мира.

1 2



3 4



5



6



Ответ: Б, 1, 3

Задание 2. (Максимум за задание – 6 баллов, за каждый правильный ответ 1 балл). Верны ли следующие утверждения («да» – «нет»)? Ответы впишите в таблицу.

- 2.1. Около 2,5 млн лет назад появившись люди, по своему облику похожие на современного человека.
- 2.2. Самая длительная эпоха в истории человечества – Цивилизация.
- 2.3. Золото было открыто металлом, из которого производили орудия труда первобытные люди.
- 2.4. Клетки на ровных родственниках называются родовой общиной.
- 2.5. Люди эпохи палеолита уже умели пользоваться огнем.
- 2.6. Первыми одомашненными животными были лошади.

Ответ:

2.1	+	2.2	+	2.3	+	2.4	+	2.5	+	2.6	+
нет		нет		нет		да		да		нет	


Задание 3. (Максимум за задание – 5 баллов). Расставьте годы и века в первой хронологической последовательности.

- 1) II век до н.э.
- 2) 478 год до н.э.
- 3) 1915 год н.э.
- 4) XII век н.э.
- 5) 2021 год н.э.

Ответ:

А	Б	В	Г	Д
2	1	4	5	3

Задание 4. (Максимум за всё задание 12 баллов). Перед вами различные изобретения человека, созданные им с древнейших времён до наших дней. Рассмотрите изображения и выполните задания.



3



4



5 6



4.1. Сопоставьте изображения предметов с их названиями.

Номер изображенного предмета	Название изобретения
1	А. персональный компьютер
2	Б. паровой двигателя (паровая машина)
3	В. бензиновый двигатель внутреннего сгорания
4	Г. деревянный плуг
5	Д. шадуф
6	Е. ручной ткацкий станок

Ответ:

1 +	2 +	3 +	4 +	5 +	6 +
Ж	Б	В	Б	Г	А

Максимум за задание - 6 баллов. За каждую верную пару - 1 балл

4.2. Расположите представленные предметы в порядке их изобретения человеком. В таблицу ниже выпишите буквы, которыми обозначены названия данных изобретений.

Ответ:


1 -	2 -	3 -	4 -	5 -	6 + 1
А	Б	В	Б	Г	А

Максимум за задание - 6 баллов. За каждую верную пару - 1 балл

Задание 5. (Максимум за все задание 8 баллов) Перед вами фотографии, иллюстрирующие деятельность историков.

5.1. Выберите номера изображений, связанных с работой археологов и запишите их.


1	Ж	2	Д
---	---	---	---



1



4



3



6



§ 5.1 Ответ: 3/6 4 - Максимум за задание - 3 балла.

5.2. Выбери верные и неверные утверждения. Ответы (да/нет) вноси в таблицу.

1. Все профессии ученых, изображенных на карточке, связаны с археологией.
2. Работа этих ученых связана с изучением жизни современных людей.
3. В своей работе ученые - археологи и не используют лопаты и кисточки.
4. В ходе работы ученые проводят раскопки.
5. Ученые этой профессии изучают здания, украшения, наскальные рисунки, захоронения, оружие.

Ответ:

1	+	2	+	3	+	4	-	5	+
нет		нет		да		нет		да	

Максимум за задание - 5 баллов. За каждое верно выбранное утверждение - 1 балл

Задание 6. (Максимум за задание - 6 баллов, 2 балла за каждый правильный ответ). Прочитайте описание погребения, обнаруженного археологами на знаменитой стоянке Сунгирь во Владимирской области.

«Второе погребение, расположенное пол метра, принадлежало взрослому мужчине. Покойник лежал на спине в вытянутом положении. При нем были položены кремневый нож, скрепило и обломок костяного предмета. Скелет был густо засыпан охрой, и на нем лежали многочисленные бусы из бивня мамонта. Размещение бус, сохранившего первоначальное положение, позволило реконструировать одежду. Костюм состоял из нарастающей рубашки, штаны, сшитых с обувью, и, возможно, платья. На голове была найдена шапка. Большая украшенная бусина из

бвятия и просверленных кашпоов пестия. На руках были толстые браслеты из бизья и тяти бус. Под козылками и на шкочотках также проследжеша шеремзки из связок бус. По шуретпей стороне ног цаптыгы бусы образовывали шшилите лампасы, соединяющие шшили. я обувь. Всего было шшилите святиг 3 500 бусиш.

Что можешо из этого описания узнать о лиягтя, затягках, вершаниях людей, которые оставили этот цаптыгтик? Сделайте 3 вывода.

1. человек из этого периода использовал медь, так как медь
использовалась для изготовления браслетов и шшилиты
2. люди украшали себя бусами и шшилитой
3. были украшены как браслеты

Задание 7. (Максимум за задание 16 баллов, по 2 балла за каждую найденную и исправленную ошибку). Найдите 8 исторических ошибок в сочинении ученика и исправьте их, записав таблицу.

Около 12 тысяч лет назад в природе ничего не изменилось. Нехолодало, ледник стал быстро таять и отступать на юг. Прилособились к новым условиям было легко и просто. Помалень тысячелетий уклад жизни. Пришлося осваивать охоту на крупного хищного зверя. Люди стали селиться в крупные пещеры, ватакомбы. В поисках пищи шшиледам надо было оставаться на одном месте. Были изобретены первое механическое оружие - копье с каменным наконечником.

Опытка	Исправление
1 Около 12 тысяч лет назад в природе ничего не изменилось.	Около 12 000 лет назад в природе было климатические изменения.
2 Помалень тысячелетий уклад жизни.	Помаленько летящих или десятилетиями и тысячелетиями.
3 Люди стали селиться в крупные пещеры, ватакомбы.	Люди стали селиться в пещеры, ватакомбы.
4 В поисках пищи шшиледам надо было оставаться на одном месте.	В поисках пищи шшиледам надо было оставаться на одном месте.
5 Были изобретены первое механическое оружие - копье с каменным наконечником.	Были изобретены первое механическое оружие - копье с каменным наконечником.
6 Люди стали селиться в крупные пещеры, ватакомбы.	Люди стали селиться в пещеры, ватакомбы.
7 В поисках пищи шшиледам надо было оставаться на одном месте.	В поисках пищи шшиледам надо было оставаться на одном месте.
8 Были изобретены первое механическое оружие - копье с каменным наконечником.	Были изобретены первое механическое оружие - копье с каменным наконечником.

Задание 8. (Максимум за задание – 3 балла)

Решите задачи. ОБЯЗАТЕЛЬНО напишите арифметические действия.

1) В 1901 году археологами был раскопан могильник вождя, где найдены остатки бус из драгоценных камней, золотые и серебряные сосуды. Установлено, что захоронение было сделано за 7240 лет до его открытия археологами. В каком году был захоронен вождь? Запишите решение и ответ. (3 балла)

Решение $7240 - 1900 = 5340$ г до н.э. 22

2) Считается, что первую пирамиду ваджий Пхотоп начал строить в 2750 г. до н.э. Последнюю пирамиду построили в 1700 г. до н.э. Сколько лет прошло между постройкой первой и последней пирамиды? Сколько лет назад были построены последние пирамиды? Приведите свои вычисления. (3 балла)

Решение $2750 - 1700 = 1050$ 1

Задание 9. (Максимум за задание – 5 баллов)

Прочитайте стихотворение В.Д. Велесова. Выполните задания.

<p>Раз первобытные дети Попали в первобытный лес. И первобытное возмие Глядело на них с небес. И встретили дети в чаще Пещерного зверья. Както сплел им раз Но вытаски пока. Сказал первобытный папа: «Ну, что ж, поиграйте с ним, Когда он будет побольше, Мы вместе его съедим».</p>	<p>Поч. Первобытные люди Спит первобытным сном, А первобытные вошки. Крадётся во мрак ночном. Беда первобытного котам Во сне беззащитным таким. Как часто зверенье брало Могилы детализь им. Но спит ребёнок, до почувши, Залаял отчаянный зверёк</p>	<p>И этим людям первобытных От гибели он уберёт С палкой ходить на охоту Он начал, когда подрос. Как другом стал человеку Всё время и верный чёл</p>
--	---	--

9.1 Напишите, о возникновении какого занятия древних людей идёт речь. (1 балл)

о собирательстве охоты P

9.2 Укажите, когда это занятие возникло (1 балл)

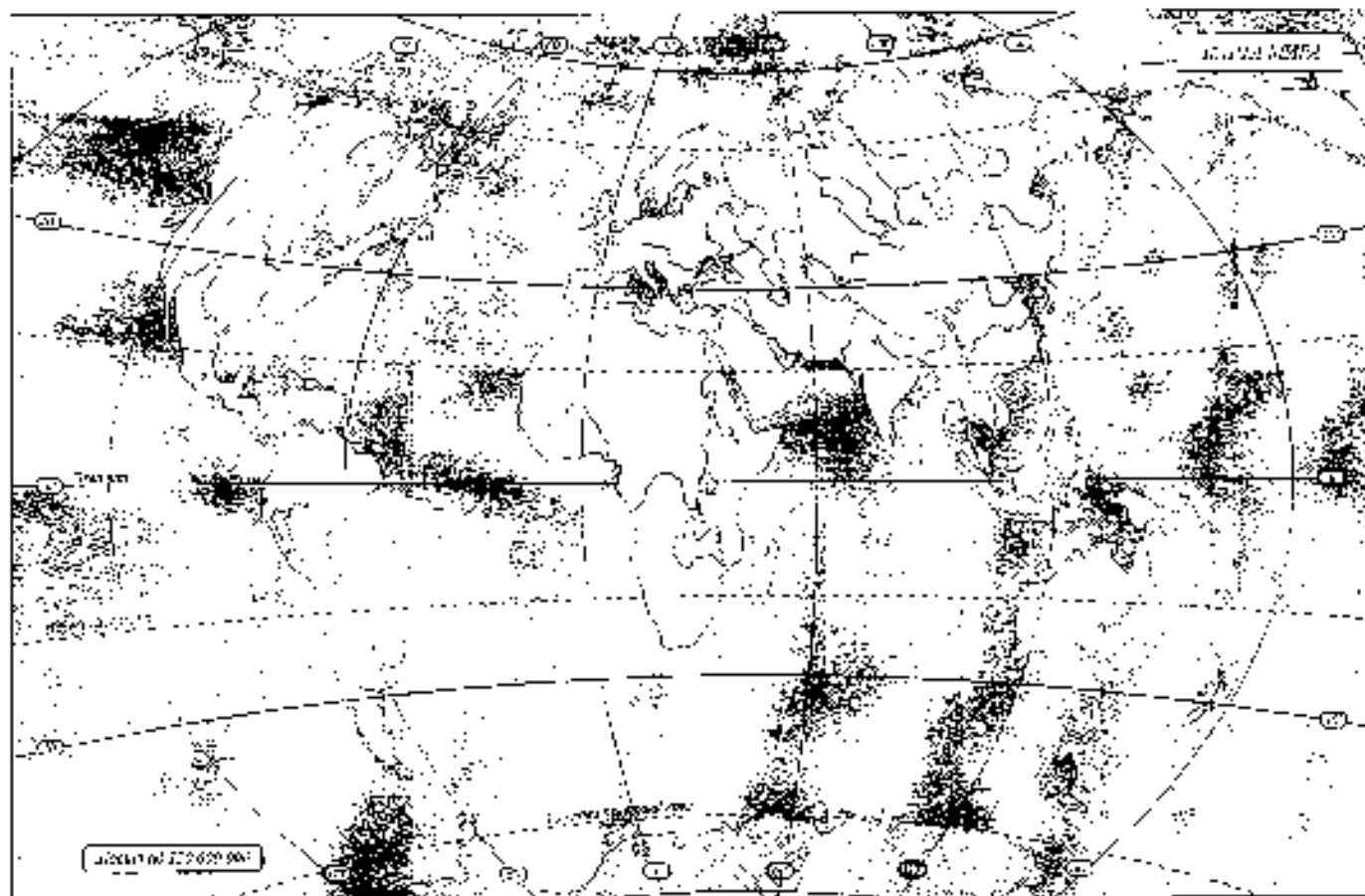
0,7 млн лет до н.э. 0

9.3 Укажите не менее двух других животных, которых приручил человек в числе первых. (2 балла)

волк, собака 0

9.4 Понайдите на карте название материала, который первобытные герои стихотворения могут назвать своей «природной». (1 балл)

..... 0



Задание 10. Выясни, насколько ты знаком с историей своей «малой родины» Югры. (Максимум за задание – 9 баллов).

10.1. Коренные народы Югры – ханты, манси и ненцы – всегда относились к природе с любовью и уважением. Местом религиозного поклонения становились целые ландшафты в форме священных урочищ, где запрещался промысел. Выбери священные места, где у коренных жителей Югры были запрещены промыслы. (2 балла)

1. Шаровая гора
2. Озеро Нумто
3. Барсова гора
4. Озеро Шучье

Ответ: 2, 3 _____ 2


10.2 Выбери из списка профессиональные праздники, особо значимые для жителей Югры. (3 балла)

1. День моряка-подводника
2. День металлурга
3. День нефтяника
4. День работника угольной промышленности
5. День оленевода
6. День речника и морского флота

Ответ: 3, 5, 6 _____ 3

10.3. Сопоставь названия предметов быта коренных народов Севера с изображениями этих предметов, вписать в таблицу их номера. (4 балла)

_____	_____	_____	_____
-------	-------	-------	-------



Ответ:

облас + 2

чум + 1

нарты + 4

лабаз + 3

ВСЕГО 75 БАЛЛОВ.

4

**Всероссийская олимпиада школьников по истории
2023/24 учебный год
Школьный этап**

Задания для участников 5-х классов

Шифр МС-5-13

Инструкция по выполнению работ
Время на выполнение работы – 45 минут.
Максимальное количество баллов – 75.

Уважаемый участник!

При выполнении работ внимательно читай текст заданий. Содержание ответа вписывай в отведённое поле, запиши его чётко и разборчиво.

За каждый правильный ответ можно получить определённое количество баллов, но не выше указанной максимальной оценки. Сумма набранных баллов за все решённые вопросы – итог работы.

Задания считаются выполненными, если Вы вовремя сдали их членам жюри.

Желаем успеха!

Таблица для внесения баллов заполняется членами жюри

1	2	3	4	5	6	7	8	9	10	Общая сумма баллов	Место
3	5	5	12	6	6	8	0	3	4	47	Муром III кл.

Задание 1. (Максимум за задание – 3 балла). Перед вами фотографии, иллюстрирующие различные эпохи истории человечества. Выберите номера изображений, связанных с историей Древнего мира.

1 2



3 4



5



6



3 Ответ: 1, 5, 6

Задание 2. *Максимум за задание – 6 баллов, за каждый правильный ответ 1 балл.* Верны ли следующие утверждения («да» – «нет»)? Ответы внесите в таблицу.

- 2.1. Около 2,5 млн лет назад появились люди, по своему облику похожие на современного человека.
- 2.2. Самая длительная эпоха в истории человечества – Палеолит.
- 2.3. Золото было основным металлом, из которого производили орудия труда первобытные люди.
- 2.4. Коллектив кровных родственников назывался родовой общиной.
- 2.5. Люди эпохи палеолита уже умели пользоваться огнем.
- 2.6. Первым одомашненным животным была лошадь.

Ответ:

2.1	-	2.2	+	2.3	+	2.4	+	2.5	+	2.6	+
да		нет		нет		да		да		нет	

5

Задание 3. *Максимум за задание – 5 баллов.* Расставьте годы и века в верной хронологической последовательности.


- 1) II век до н. э.
- 2) 478 год до н. э.
- 3) 945 год н. э.
- 4) XIII век н. э.
- 5) 2025 год н. э.

Ответ:

А	Б	В	Г	Д
2	1	4	3	5

5

Задание 4. *Максимум за всё задание 12 баллов.* Перед вами различные изобретения человека, созданные им с древнейших времён до наших дней. Рассмотрите изображения и выполните задания.



1



2

3

4



5 Б



4.1. Соотнесите изображения предметов с их названиями.

Номер изображения предмета	Название изобретения
1	А. персональный компьютер
2	Б. паровой двигатель (паровая машина)
3	В. бесщеточный двигатель внутреннего сгорания
4	Г. деревянный плуг
5	Д. трактор
6	Е. ручной книгопечатный станок

Ответ:

1 +	2 +	3 +	4 +	5 +	6 +	6
Б	Е	Б	В	Г	А	

Максимум за задание – 6 баллов. За каждую верную пару – 1 балл

4.2. Расположите представленные предметы в порядке их изобретения человеком. В таблицу ниже запишите буквы, которыми обозначены названия данных изобретений.

Ответ:

1 +	2 +	3 +	4 +	5 +	6 +	6
Г	Б	Е	Б	В	А	

Максимум за задание – 6 баллов. За каждую верную пару – 1 балл

Задание 5. (Максимум за все задание 8 баллов) Перед вами фотографии, иллюстрирующие деятельность историков.

5.1. Выберите номера изображений, связанных с работой археологов и запишите их.

1	2
---	---



3



4



5



6



5.1 Ответ: 3, 4, 5. Максимум за задание – 3 балла.

5.2. Выберите верные и неверные утверждения. Ответы (да/нет) внеси в таблицу.

1. Все профессии ученых, изображенных на картинке, связаны с археологией.
2. Работа этих ученых связана с изучением жизни современных людей.
3. В своей работе ученые - археологи используют лопаты и кисточки.
4. В ходе работы ученые проводят раскопки.
5. Ученые этой профессии изучают здания, украшения, палеолитные рисунки, захоронения, оружие.

Ответ:

	1 -	2 +	3 +	4 +	5 +
Рубка		ММ	СВ	СВ	СВ

Максимум за задание – 5 баллов. За каждое верно выбранное утверждение – 1 балл.

Задание 6. (Максимум за задание – 6 баллов. 2 балла за каждый правильный вывод). Прочитайте описание погребения, обнаруженного археологами на знаменитой стоянке Сунгирь во Владимирской области.

«Второе погребение, расположенное под первым, принадлежало взрослому мужчине. Покойник лежал на спине в вытянутом положении. При нем были положены кремневый нож, скребло и обломок костяного предмета. Скелет был туго засыпан охрой, и на нем лежали многочисленные бусы из бивня мамонта. Расположение бус, сохранивших первоначальное положение, позволило реконструировать одежду. Костюм состоял из перекроенной рубахи, штанин, соединенных с обувью, и, возможно, шапки. На голове были надеты шапка, богато украшенная бусами и

бывши и просверленных клыков пещера. На руках были тонкие браслеты из бивня и шкатулки бус. Под железными и на приколотках также простояли перевязки из шнуров бус. По внутренней стороне ног нашились бусы образовывали длинные лампасы, соединяющие штаны и обувь. Всего было найдено свыше 3 500 бусинок.

Что можно из этого описания узнать о жизни, занятиях, верованиях людей, которые оставили этот шмелник? Сделайте 3 вывода.

1. Первоначально люди при передвижении надевали одежду из шкур животных. Самым первым это были носки сделаны в кожаных сапогах. +
2. Возникла первоначально одежда из шкур и бивня как сейчас +
3. Первоначально бивень не использовался как у нас. +

Задание 7. (Максимум за задание 16 баллов, по 2 балла за каждую найденную и исправленную ошибку). Найдите 8 исторических ошибок в сопоставлении ученика и исправьте их, записав таблицу.

Около 12 тысяч лет назад в природе ничего не изменилось. Шохолодато, педник стал быстро таять и отступать на юг. Приспособиться к новым условиям было легко и просто. Домашнее тысячелетний уклад жизни. Пришлось освоить охоту на крупного хищного зверя. Люди стали скитаться в крупные пещеры, катакомбы. В поисках пищи племенам надо было оставаться на одном месте. Были изобретены первое механическое оружие - копье с выемками на копечнике.

Ошибка	Неправильно	
1 "В природе ничего не изменилось"	В природе изменилось всё.	+
2 "Легко приспособиться к новым условиям было"	Копье, лезвие, шкура животного.	+
3 "Пришлось освоить охоту на крупного хищного зверя"	Получились охотничьи и соборные животные в виде мамонта и бизона.	+
4 "В поисках пищи племенам надо было оставаться на одном месте"	В поисках пищи племенам надо было перемещаться с места на место.	+
5 "Были изобретены первое механическое оружие"	Было изобретено первое оружие - копье.	-
6 "Около 12 тысяч лет назад"	Около 12 тысяч лет назад.	-
7 "Люди стали скитаться в крупные пещеры"	Люди стали скитаться в катакомбы.	-
8 "Копье с выемками на копечнике"	- механическое оружие.	-

Задание 8. (Максимум за задание – 5 баллов)

Решите задачу. ОБЯЗАТЕЛЬНО напишите арифметические действия.

1) В 1900 году археологами был раскопан могильник вождя, где найдены остатки бус и драгоценных камней, золотые и серебряные сосуды. Установлено, что захоронение было сделано за 7240 лет до его находки археологами. В каком году был захоронен вождь? Запишите решение и ответ. (2 балла)

Решение

1900

~~1900 - 7240 = -5340~~
~~1900 + 7240 = 9140~~
~~1900 - 7240 = -5340~~
~~1900 + 7240 = 9140~~

2) Считается, что первую пирамиду египетский фараон начал строить в 2750 г. до н.э. Последние пирамиды построены в 1700 г. до н.э. Сколько лет прошло между постройкой первой и последней пирамиды? Сколько лет назад были построены последние пирамиды? Приведите свои вычисления. (3 балла)

Решение

2750

2750
1700
 1050

«Общая информация»

Задание 9. (Максимум за задание – 3 балла)

Прочитайте стихотворение В.Л. Берестова. Выполните задания.

<p>Раз первобытные дети Попали в первобытный лес. И первобытное солнце Глядело на них с небес. И встретили дети в чаще Неведомого зверья, Както стб ни разу Не выдвгали пока. Сказал первобытный лшв: «Ну, что ж, поиграйте с лшв, Когда он будет побольше. Мы вместе его съедим»</p>	<p>Ночь. Первобытные шшм. Силл первобытшм шшм. А первобытшм волки, Крадутся во мраке шшм. Беда первобытшм шшм. Во сне беззащитным шшм. Как часто зверное брюхо Могло делаться шшм. Но шшм шшм шшм, Завою и шшм шшм.</p>	<p>И шшм шшм первобытшм. Он шшм он шшм С шшм шшм шшм Он шшм, когда шшм. Так шшм шшм шшм Несбшм и шшм шшм</p>
--	--	---

9.1 Напишите, о возникновении дикого животного древних людей идёт речь (1 балл)

приручение, одомашнивание скотины, зверей. 1

9.2 Укажите, когда это животное появилось (1 балл)

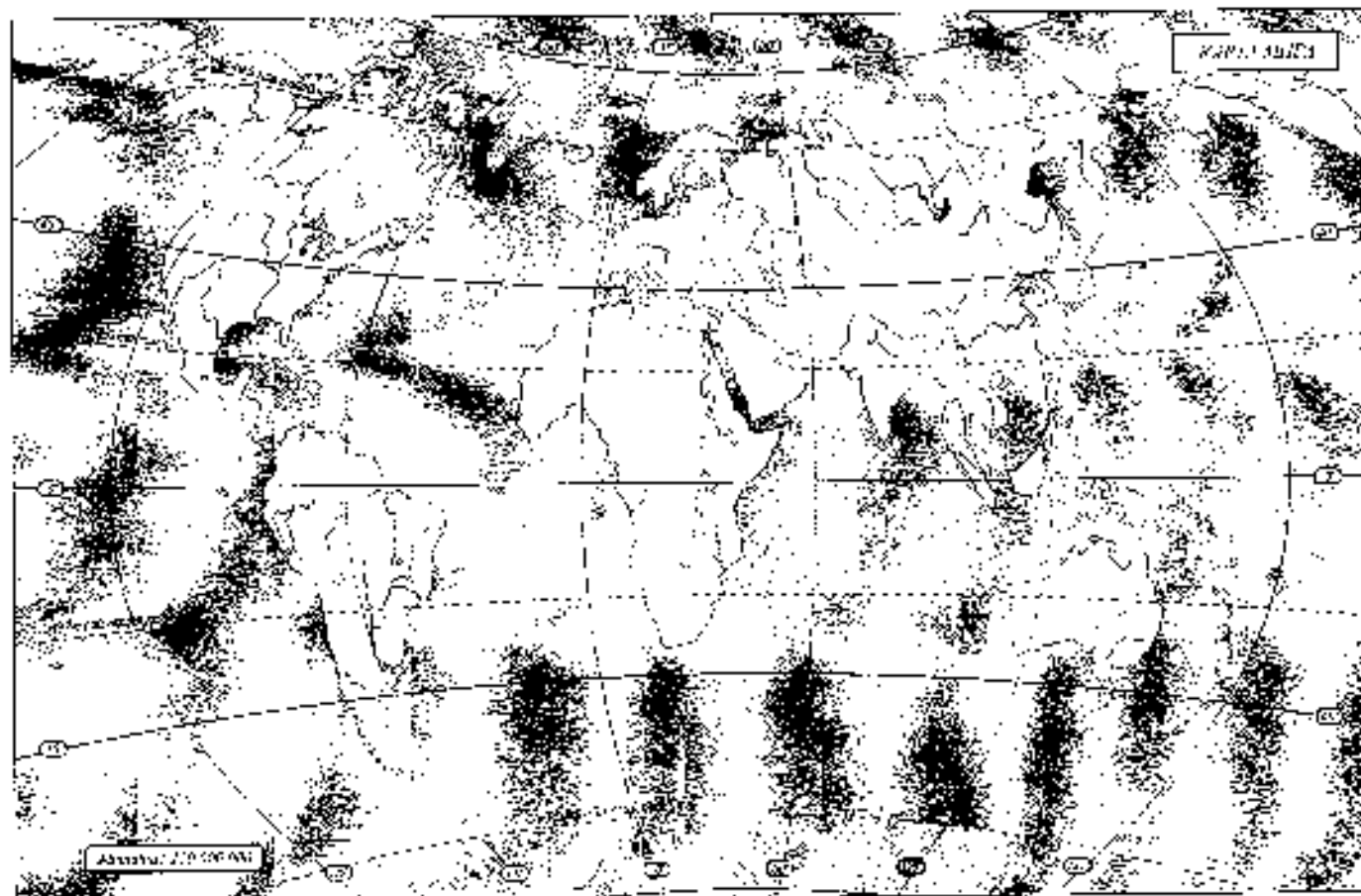
во время первобытных людей 0

9.3 Укажите не менее двух других животных, которых приручил человек в эпоху пермь. (2 балла)

рыба - карась, волк - собака, куница. 2

9.4 Запишите на карте название материка, который первобытные герои стихотворения могут назвать своей «прародиной». (1 балл)

_____ 0



Задание 10. Выдели, насколько ты знаком с историей своей «малой родины» Югры. (Максимум за задание – 9 баллов).

10.1. Коренные народы Югры – ханты, манси и ненцы – всегда относились к природе с любовью и уважением. Местом реллигиозного почитания становятся только ландшафты в форме священных урочищ, где издревле были промыслы. Выбери священные места, где у коренных жителей Югры были издревле промыслы. (3 балла)

1. Царская гора
2. Озеро Шусто
3. Барова гора
4. Озеро Шустье

Ответ: _____ 3 _____ 1


10.2 Выбери из списка профессиональные праздники, особо значимые для жителей Югры. (3 балла)

1. День моряка-подводника
2. День металлурга
3. День нефтяника
4. День работника атомной промышленности
5. День оленевода
6. День речного и морского флота

Ответ: _____ 5 _____ 1

10.3. Сопоставь названия предметов быта коренных народов Севера с изображениями этих предметов, вписав в таблицу их номера. (4 балла)

_____	_____	_____	_____	_____
_____	_____	_____	_____	_____



3



4



Ответ:

облас	чум	нарты	лабаз
3	1	4	2

2

ВСЕГО 75 БАЛЛОВ.

**Всероссийская олимпиада школьников по истории
2023/24 учебный год
Школьный этап**

Задания для участников 5-х классов

Шифр Ис-5-03

Инструкции по выполнению работ
Время на выполнение работы – 45 минут.
Максимальное количество баллов – 75.

Уважаемый участник!

При выполнении работы внимательно читай текст заданий. Содержащие ответы вписывай в отведённые поля, запиши вежливо и разборчиво.

За каждый правильный ответ можно получить определённое количество баллов, но не выше указанной максимальной отметки. Сумма набранных баллов за все решённые вопросы – итог работы.

Задания считаются выполненными, если Вы вовремя сдали их членам жюри.

Желаем успеха!

Таблица для внесения баллов заполняется членами жюри

2	3	4	5	6	7	8	9	10	Общая сумма баллов	Место
3	4	0	10	7	4	6	3	3	43	призёр

Задание 1. (Максимум за задание – 3 балла) Перед вами фотографии, иллюстрирующие различные эпохи истории человечества. Выберите номера изображений, связанных с историей Древнего мира.

1 2



3 4



5



6



3 Ответ: 1,3,6

Задание 2. (Максимум за задание – 6 баллов, за каждый правильный ответ 1 балл). Верны ли следующие утверждения («да» – «нет»)? Ответы вносите в таблицу.

- 2.1. Около 2,5 млн лет назад появился плуг, по своему устройству похожий насовременный человек.
- 2.2. Самый длительный эпоха в истории человечества – Новое время.
- 2.3. Золото было основным металлом, из которого производили орудия труда первобытные люди.
- 2.4. Кошечки и крошечные родственники называются рогатой общиной.
- 2.5. Люди эпохи палеолита уже умели пользоваться огнем.
- 2.6. Первым одомашненным животным была лошадь.

Ответ:

2.1	2.2	2.3	2.4	2.5	2.6
+	-	+	+	-	+
НЕТ	ДА	НЕТ	ДА	НЕТ	НЕТ

Задание 3. (Максимум за задание – 5 баллов). Расставьте годы и века в верной хронологической последовательности.

- 1) II век до н. э. 2) 478 год до н. э. 3) 1945 год н. э. 4) XVI век н. э. 5) 2023 год н. э.

Ответ:

А	Б	В	Г	Д
5	4	3	2	1

Задание 4. (Максимум за все задание 12 баллов). Перед вами различные изобретения человека, созданные им с древнейших времён до наших дней. Рассмотрите изображения и выполните задания.



3

4



5 6



4.1. Сопоставьте изображения предметов с их названиями

Номер изображения предмета	Целинные изобретения
1	А. персидский компьютер
2	Б. паровой двигатель (паровая машина)
3	В. бензиновый двигатель внутреннего сгорания
4	Г. деревянный шуруп
5	Д. шидуф
6	Е. ручной выжигательный станок

Ответ:

1	2	3	4	5	6	6
Б	Е	В	Г	А		

Максимум за задание: 6 баллов. За каждую верную пару — 1 балл

4.2. Расположите представленные предметы в порядке их изобретения человеком. В ответе ниже напишите буквы, которыми обозначены даты изобретений.

Ответ:

1	2	3 +	4 +	5 +	6 +	4
Б	Г	Е	В	А		

Максимум за задание: 6 баллов. За каждую верную пару — 1 балл

Задание 5. (Максимум за всё задание: 8 баллов) Перед вами фотографии, иллюстрирующие деятельность историков.

5.1. Выберите номера изображений, связанных с работой археологов и запишите их.

1	2
---	---



3



4



5



6



5.1 Ответ: 4, 3, 5, 6 Максимум за задание – 3 балла.

5.2. Вибери верные и поверни утверждения. Ответы (да – нет) вноси в таблицу.

1. Все профессии ученые, изображены на кар.шке, связана с археологией.
2. Работа этих ученых связана с изучением жизни современных людей.
3. В своей работе ученые - археологи используют лопаты и вилочки.
4. В ходе работы ученые проводят раскопки.
5. Ученые этой профессии изучают здания, украшения, наскальные рисунки, захоронения, оружие.

Ответ:

1	2	3	4	5
+	+	+	+	+
НЕТ	НЕТ	ДА	ДА	ДА

Максимум за задание – 5 баллов. За каждое верно выбранное утверждение – 1 балл.

Задание 6. (Максимум за задание - 6 баллов, 2 балла за каждый правильный ответ). Прочитай описание погребения, обнаруженного археологами на знаменитой стоянке Сунгирь во Владимирской области.

«Второе погребение, расположенное под термом, принадлежало взрослому мужчине. Покойник лежал на спине в выланутом положении. При нем были положены кремневый нож, скрепко и обломок костяного предмета. Скелет был хорошо сохранён сухой, и за ним лежали шнурчакленные бусы из бивня мамонта. Размещение бус, сохранивших первоначальное положение, позволило реконструировать одежду. Костюм состоял из нерасстатной рубахи, штанов, соединённых с обувью, и, возможно, плаща. На голове были надеты шапка, богато украшенная бусами из

Задание 8. (Максимум за задание – 5 баллов)

Решите задачи ОБЯЗАТЕЛЬНО пишите арифметические действия.

1) В 1900 году археологами был раскопан могильник вождей, где найдены остатки бус из драгоценных камней, золотые и серебряные сосуды. Установлено, что захоронение было сделано за 7240 лет до его находки археологами. В каком году был захоронен вождь? Запишите решение и ответ. (2 балла)

Решение $7240 - 1500 = 5740$ _____ 2

2) Считается, что первую пирамиду земной Изаиды начал строить в 2750 г. до н.э. Последние пирамиды построены в 1700 г. до н.э. Сколько лет прошло между постройкой первой и последней пирамиды? Сколько лет назад были построены последние пирамиды? Приведите свои вычисления. (3 балла)

Решение $2750 - 1700 = 1050$ _____ 1

Задание 9. (Максимум за задание – 5 баллов)

Прочитайте стихи в решете В.Д. Берестова. Выпишите задания.

Раз первобытные дети
Пошли в первобытный лес.
И первобытное солнце
Ляддело на пшк с небес.
И встретили дети в чаще
Неведомого зверька.
Каким ещё ни разу
Не тягивали пока.
Сказал первобытный пали:
«Ну, что ж, поиграйте с ним.
Когда он будет побольше,
Мы вместе его съедем».

Ночь. Первобытные люди
Спят первобытным сном.
А первобытные воины
Крадутся во зрачке ночном.
Беда первобытным людям
Во сне беззащитным тварям.
Как пасть звериние брюхо
Моглово делалось им.
Но злых людоедов потугив,
Защитил отважный зверёк.

И этим полем первобытным
От гибели он уберёг
С собой ходить на охоту
Он начал, когда вырос.
Так другом стал человеку
Всесильный и верный пёс

9.1 Напишите, о возникновении какого занятия древних людей идёт речь (1 балл)

Охота на пшк

9.2 Укажите, когда это занятие возникло (1 балл)

В древние века

9.3 Укажите не менее двух других животных, которых приручил человек в числе первых. (2 балла)

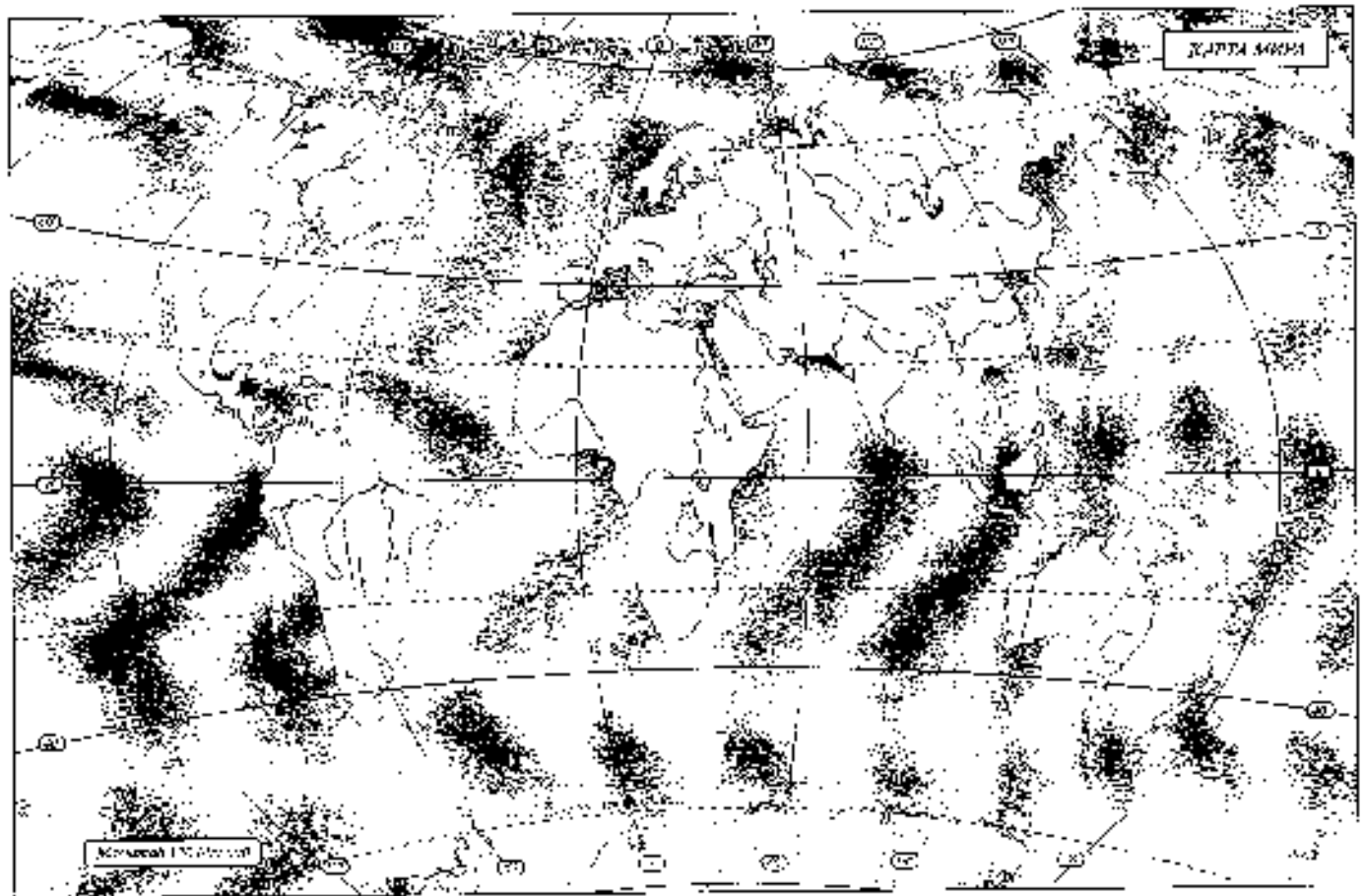
кошка, собака

2

9.4 Напишите на карте название материка, который первобытные герои стихотворения могут назвать своей «приужиной». (1 балл)

Африка

1



Задание 10. Выясни, насколько ты знаком с историей своей «малой родины» Югры. (Максимум за задание – 9 баллов).

10.1. Коренные народы Югры – ханты, манси и пепты – всегда относились к природе с любовью и уважением. Местом религиозного почитания становились певчие ландшафты в форме священных урочищ, где закрещались промыслы. Выбери священные места, где у коренных жителей Югры были закрещены промыслы. (2 балла)

1. Народная гора
2. Озеро Нумто
3. Барсова гора
4. Озеро Шуэло

Ответ: 4 _____


10.2 Выбери из списка профессиональные праздники, особо значимые для жителей Югры. (3 балла)

1. День моряка-полюсника
2. День металлурга
3. День нефтяника
4. День работника вольной промышленности
5. День оленевода
6. День речного и морского флота

Ответ: 3 _____

10.3. Сопоставь названия предметов быта коренных народов Севера с изображениями этих предметов, написав в таблицу их номера. (4 балла)

1	2	3	4
---	---	---	---



Ответ:

об.ис	-	чум	+	нарты	-	лабаз	+
4		1		2		3	2

ВСЕГО 75 БАЛЛОВ.

Всероссийская олимпиада школьников по истории
2023/24 учебный год
Школьный этап

Задания для участников 5-х классов

Шифр Ис-5-01

Инструкция по выполнению работ
 Время на выполнение работы – 45 минут.
 Максимальное количество баллов – 75.

Уважаемый участник!

При выполнении работы внимательно читай текст заданий. Содержание ответа вписывай в отведённые поля, записывай веди чётко и разборчиво.

За каждый правильный ответ можно получить определённое количество баллов, но не выше указанной максимальной оценки. Сумма набранных баллов за все решённые вопросы – итог работы.

Задания считаются выполненными, если Вы вовремя сдали их членам жюри.

Желаем успеха!

Таблица для внесения баллов составляется членами жюри

1	2	3	4	5	6	7	8	9	10	Общая сумма баллов	Место
1	5	2	3	8	6	8	1	2	6	42	примёр

Задание 1. (Максимум за задание – 3 балла). Перед вами фото рафин, иллюстрирующие различные эпохи истории человечества. Выберите номера изображений, связанных с историей Древнего мира.

1 2



3 4



5



6



1 Ответ: 6.

Задание 2. (Максимум за задание – 6 баллов, за каждый правильный ответ 1 балл). Верны ли следующие утверждения («Да» – «нет»)? Ответы внесите в таблицу.

- 2.1. Около 2,5 млн лет назад появились люди, по своему облику похожие на современного человека.
- 2.2. Самая длительная эпоха истории человечества – Новое время.
- 2.3. Золото было основным металлом, из которого производили оружие труда первобытные люди.
- 2.4. Коллектив кровных родственников назывался родовым обществом.
- 2.5. Люди эпохи палеолита уже умели пользоваться огнем.
- 2.6. Первым одомашненным животным была лошадь.

Ответ:

2.1	+	2.2	-	2.3	+	2.4	+	2.5	+	2.6	+	5
Нет		Да		Нет		Да		Да		Нет		

Задание 3. (Максимум за задание – 5 баллов). Расставьте годы и века в верной хронологической последовательности.

- 1) II век до н.э.
- 2) 178 год до н.э.
- 3) 1945 год н.э.
- 4) XII век н.э.
- 5) 2023 год н.э.

Ответ:

А	Б	В	Г	Д
4	1	2	3	5

Задание 4. (Максимум за все задание 12 баллов). Перед вами различные изобретения человека, созданные им с древнейших времён до наших дней. Рассмотрите изображения и выполните задание.



3

4



5 6



4.1. Соотнесите изображения предметов с их названиями.

Номер изображения предмета

Название изобретения

- | | |
|---|--|
| 1 | А. персональный компьютер |
| 2 | Б. паровой двигатель (паровая машина) |
| 3 | В. бензиновый двигатель внутреннего сгорания |
| 4 | Г. деревянный штур |
| 5 | Д. шаф |
| 6 | Е. ручной книгопечатный станок |

Ответ:

1	2	3	4	5	6	Г
В	Б	Д	Б	Д	А	

Максимум за задание – 6 баллов. За каждую верную пару – 1 балл

4.2. Расположите представленные предметы в порядке их изобретения человеком. В таблицу ниже выпишите буквы, которыми обозначены названия данных изобретений.

Ответ:

1	2	3	4	5	6	Г
В	Б	Д	Б	Б	А	

Максимум за задание – 6 баллов. За каждую верную пару – 1 балл

Задание 5. (Максимум за все задание 8 баллов) Перед вами фотографии, иллюстрирующие деятельность историков.

5.1. Выберите номера изображений, связанных с работой археологов и запишите их.


1	2
---	---



3



5



4



6



5.1 Ответ: 1, 4, 3 Максимум за задание - 3 балла

5.2. Выбери верные и неверные утверждения. Ответы («да» «нет») вноси в таблицу.

1. Все профессии ученых, изображенных на картинке, связаны с археологией.
2. Работа этих ученых связана с изучением жизни современных людей.
3. В своей работе ученые - археологи используют лопаты и кисточки.
4. В ходе работы ученые проводят раскопки.
5. Ученые этой профессии изучают здания, украшения, различные рисунки, захоронения, оружие.

Ответ:

1	2	3	4	5
нет	нет	да	да	да

Максимум за задание - 5 баллов. За каждое верно выбранное утверждение - 1 балл

Задание 6. (Максимум за задание - 6 баллов. 2 балла за каждый правильный ответ). Прочитайте описание погребения, обнаруженного археологами на знаменитой стоянке Сунгирь во Владимирской области.

«Второе погребение, расположенное под первым, принадлежало взрослому мужчине. Покойник лежал на спине в вытянутом положении. При нем были положены кремневый нож, скребло и обломок костяного предмета. Сидел был густо засыпан охрой, и на нем лежали многочисленные бусы из бивня мамонта. Размещение бус, сохранявших первоначальное положение, позволило реконструировать одежду. Костям сослужил из персидской рубахи, штанов, соединенных с обувью, и, возможно, шапки. На голове была найдена шапка, богато украшенная бусами из

Были и проверенных клыков песца. На руках были теплые браслеты из бивня и нитки бус. Под коленями и на щиколотках также приделаны перевязки из сухожилий бус. По внутренней стороне ног нашивали бусы образовывали длинные лампасы, соединяющие штаны и обувь. Всего было найдено в египте 3 500 бусинок.

Что можно из этого описания узнать о жизни, занятиях, верованиях людей, которые оставили эти памятники? Сделайте 3 вывода.

1. Это что Можно сказать, что люди умели шить +
2. Это что люди использовали сухожилия +
3. Это что они носили украшения +

Задание 7. Рассмотрите на задание 16 баллов. на 2 балла за каждую найденную и исправленную ошибку. Найдите 8 исторических ошибок в сценарии ученика и исправьте их, записав таблицу.

Около 12 тысяч лет назад в природе ничего не изменилось. Походили, ледник стал быстро таять и отступать на юг. Приспособиться к новым условиям было легко и просто. Людям тысячелетний уклад жизни. Пришлось освоить охоту на крупного хитрого зверя. Люди стали собирать в крупные пошеры, камакюби. В топках шведи леденем ладо было оставаться на одном месте. Было изобретено первое механическое оружие - копье с каменным наконечником.

Ошибки	Исправление
1. Около 12 тысяч лет ^{назад} назад	Около 12 тысяч лет ^{назад} назад
2. Приспособиться к новым условиям было легко и просто. Людям тысячелетний уклад жизни.	Приспособиться к новым условиям было ^{не} легко и просто. Людям тысячелетний уклад жизни.
3. Людям тысячелетний уклад жизни.	Людям тысячелетний уклад жизни.
4. Людям тысячелетний уклад жизни.	Людям тысячелетний уклад жизни.
5. Людям тысячелетний уклад жизни.	Людям тысячелетний уклад жизни.
6. Было изобретено первое механическое оружие - копье с каменным наконечником.	Было изобретено первое механическое оружие - копье с каменным наконечником.
7.	Копье с каменным наконечником
8.	

Задание 8. (Максимум за задание – 5 баллов)

Решите задачу. ОБЯЗАТЕЛЬНО запишите арифметические действия.

1) В 1900 году археологами был раскопан маленький шкред, где найдены остатки бус из драгоценных камней, золотые и серебряные сосуды. Установлено, что захоронение было сделано за 7210 лет до его находки археологами. В каком году был захоронен вклад? Запишите решение и ответ. (3 балла)

Решение $5.5.21$ $1900 - 7210 = 5310$ $1900 - 7210 = 5310$

2) Считается, что первую пирамиду египетских фараонов начал строить в 2730 г. до н.э. Последние пирамиды построены в 1700 г. до н.э. Сколько лет прошло между постройкой первой и последней пирамиды? Сколько лет назад были построены последние пирамиды? Приведите свои вычисления. (3 балла)

Решение 1060 $2730 - 1700 = 1030$ 1700

Задание 9. (Максимум за задание – 5 баллов)

Прочитайте стихотворение В.Д. Берестова. Выполните задания.

Ряд первобытные дети Пошли в первобытный лес. И первобытные солгты Сидели на шку с зебес. И встретили дети в чаще Пенодомого зверька. Какое ещё ни разу Не слышали слова. Сказал первобытный папа: «Ну, что ж, поиграйте с ним. Когда он будет побольше, Мы вместе его съедим».	Ночь. Первобытные люди Снят первобытным светом, А первобытные волосы, Крадутся по мраке ночью. Бела первобытным людям Во сне беззащитны таким. Как часто зверюшка брехала Могучко делалось им. Но злых людослов почуль, Залаля отважный зверёк.	И этим людям первобытным От гибели он уберёт С такой ходит на охоту Он начал когда шло. Так другом стал человеку Весёлый и верный пёс
--	--	--

9.1 Напишите, о возникновении какого занятия древних людей идёт речь. (1 балл)

$1900 - 7210 = 5310$

9.2 Укажите, когда это занятие возникло. (1 балл)

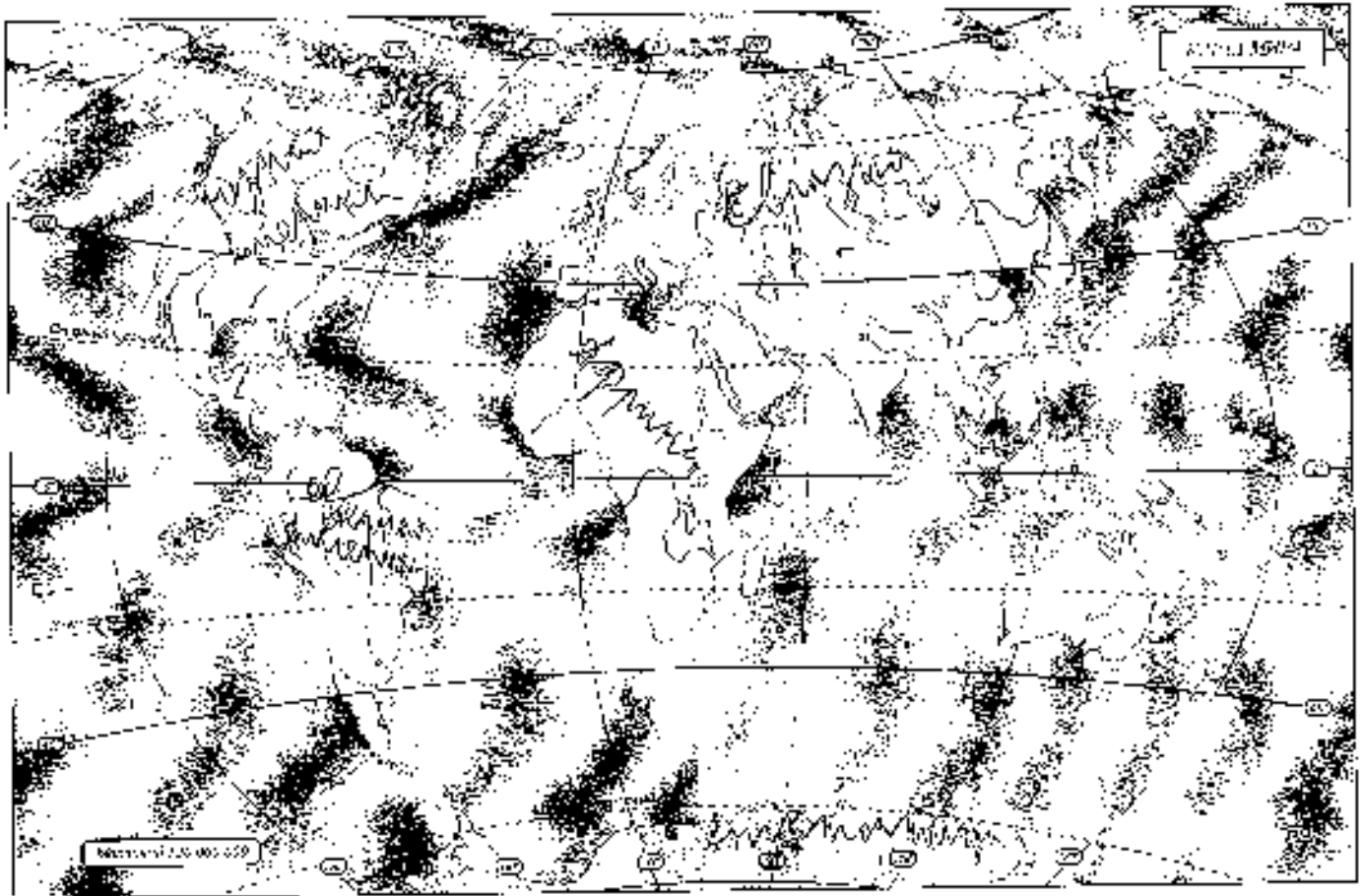
$1900 - 7210 = 5310$

9.3 Укажите не менее двух других животных, которых приручили человек в числе первых. (2 балла)

$1900 - 7210 = 5310$

9.4 Напишите на карте название материка, который первобытные герои стихотворения могут назвать своей «прародиной». (1 балл)

.....



Задание 10. Вспомни, насколько ты знаком с историей своей «малой родины» Юрья. (Максимум за задание – 9 баллов).

10.1. Коренные народы Юрьи – ханты, манси и ненцы – всегда относились к природе с любовью и уважением. Местом религиозного поклонения становились целые ландшафты в форме священных урочищ, где запрещались промыслы. Выбери священные места, где у коренных жителей Юрьи были запрещены промыслы. (3 балла)

1. Народная гора 2. Озеро Шучье 3. Барсова гора 4. Озеро Шучье

Ответ: 2, 3, 4


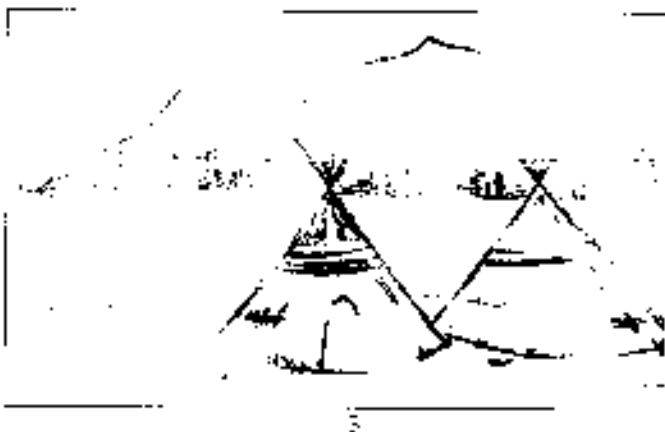
10.2 Выбери из списка профессиональные праздники, особо значимые для жителей Юрьи. (3 балла)

1. День моряка-подводника
2. День металлурга
3. День нефтяника
4. День работника атомной промышленности
5. День учителя
6. День речника и морского флота

Ответ: 2, 3, 4

10.3. Соотнеси названия предметов быта коренных народов Севера с изображениями этих предметов, вписав в таблицу их номера. (4 балла)

_____	_____	_____	_____	_____	_____
-------	-------	-------	-------	-------	-------



Ответ:

облас +	чум +	парты -	лабаз -	
2	4	3	6	2

ВСЕГО 75 БАЛЛОВ.

Всероссийская олимпиада школьников по истории
2023/24 учебный год
Школьный этап

Задания для участников 5-х классов

Шифр М.418

Инструкция по выполнению работ
 Время на выполнение работы – 45 минут.
 Максимальное количество баллов – 75.

Уважаемый участник!

При выполнении работы внимательно читай текст заданий. Содержащие ответы вышедшей в ответённые шиха, записи веди чётко и разборчиво.

За каждый правильный ответ можно получить определённое количество баллов, но не выше указанной максимальной оценки. Сумма набранных баллов за все решённые вопросы – итог работы.

Задания считаются выполненными, если Вы вовремя стали их членам жюри.

Желаем успеха!

Таблица для вписывания баллов выносится членами жюри

1	2	3	4	5	6	7	8	9	10	Общая сумма баллов	Место
3	4	5	10	8	2	4	0	1	6	49	призёр

Задание 1. (Максимум за задание – 3 балла). Перед вами фотографии, иллюстрирующие различия эе эпохи истории человечества. Выберите номер изображения, связанного с историей Древнего мира.

1 2



3 4



5



6



Ответ: 1. 3. 6

Задание 2. (Максимум за задание 6 баллов, за каждый правильный ответ 1 балл). Верны ли следующие утверждения («да» – «нет»)? Ответы внесите в таблицу.

- 2.1. Около 2,5 млн лет назад появились люди, по своему облику похожие на современного человека.
- 2.2. Самая длительная зима в истории человечества – Новое время.
- 2.3. Золото было основным металлом, из которого производили орудия труда первобытные люди.
- 2.4. Кишечник вояков рода обезьянок называется ротовой обиткой.
- 2.5. Люди эпохи палеолита уже умели пользоваться огнем.
- 2.6. Первым одомашненным животным была лошадь.

Ответ:

2.1	+	2.2	-	2.3	+	2.4	+	2.5	-	2.6	+
Нет		Да		Нет		Да		Нет		Нет	

Задание 3. (Максимум за задание 5 баллов). Расставьте годы и века в верной хронологической последовательности.

- 1) II век до н. э. 2) 478 год до н. э. 3) 1945 год н. э. 4) XII век н. э. 5) 2023 год н. э.

Ответ:

А	Б	В	Г	Д
2	1	4	3	5

Задание 4. (Максимум за всё задание 12 баллов). Перед вами различные изобретения человека, созданные им с древнейших времен до наших дней. Рассмотрите изображения и выполните задания.



3

4



5 6



4.1. Соотнесите изображенные предметы с их названиями.

Номер изображенного предмета	Название изобретения
1	Д. персональный компьютер
2	Б. паровой двигателя (паровая машина)
3	В. бензиновый двигатель внутреннего сгорания
4	Г. деревянный лесу
5	З. Д. шдуф
6	Е. ручной книгопечатный станок

Ответ:

1 +	2 +	3 +	4 +	5 +	6 +	6
D	E	B	B	Г	A	

Максимум за задание - 6 баллов. За каждую верную пару - 1 балл

4.2. Расположите представленные предметы в порядке их изобретения человеком. В таблицу ниже напишите буквы, которыми обозначены названия данных изобретений.

Ответ:


1 -	2 -	3 +	4 +	5 +	6 +	8
D	Г	E	B	Б	A	

Максимум за задание - 6 баллов. За каждую верную пару - 1 балл

Задание 5. (Максимум за все задание 8 баллов) Перед вами фотографии, иллюстрирующие деятельность историков.

5.1. Выберите номера изображений, связанных с работой археологов и запишите их.

1	2



5.1 Ответ: 3, 4, 5 Максимум за задание - 3 балла.

5.2. Выберите верные и неверные утверждения. Ответы (да/нет) впишите в таблицу.

1. Все профессии ученых, изображенных на карточке, связаны с археологией.
2. Работа этих ученых связана с изучением жизни современных людей.
3. В своей работе ученые - археологи используют лопаты и щетки.
4. В ходе работы ученые проводят раскопки.
5. Ученые этой профессии изучают здания, украшения, раскопанные рюкзачки, захоронения, оружие.

Ответ:

1	+	2	-	3	+	4	-	5	+
Нет					Да				

Максимум за задание - 3 балла. За каждое верно выбранное утверждение - 1 балл.

Задание 6. (Максимум за задание - 6 баллов. 2 балла за каждый правильный ответ). Прочитайте описание погребения, обнаруженного археологами на знаменитой стоянке Сунгирь во Владимирской области.

«Второе погребение, расположенное под первым, принадлежало взрослому мужчине. Покойник лежал на спине в вытянутом положении. При нем были положены кремневый нож, серебро в обшивке костяного предмета. Скелет был густо засыпан охрой, и на нем лежали многочисленные бусы из бивня мамонта. Расположение бус, сохранивших первоначальное положение, позволило реконструировать одежду. Костюм состоял из нераспашной рубрики, штаны, соединенных с обувью, и, возможно, штатя. На голове была надета шапка, богата украшенная бусами из

бисера и просверленных вилков пещи. На руках были толстые браслеты из бисера и нитки бус. Под коленями и на шиколотках также просеивали перчатки из связок бус. По внутренней стороне ног надетые бусы образовывали длинные лампы, соединяющие щиколки и обувь. Всего было найдено свыше 3 500 бусин.

Что можно из этого описания узнать о жизни, занятиях, верованиях людей, которые оставили эти памятники? Сделайте 3 вывода.

1. В древние времена древние люди считали что умирающий человек попадает в царство мертвых.
2. После смерти к в могилу клали все вещи этого человека.
3. _____

Задание 7. (Максимум за задание 16 баллов, по 2 балла за каждую найденную и исправленную ошибку). Найдите 8 исторических ошибок в сочинении ученика и исправьте их, заполнив таблицу.

Около 12 тысяч лет назад в природе ничего не изменилось. Похолодало, ледник стал быстро таять и отступать на юг. Приспособиться к новым условиям было легко и просто. Изменился высочайший уклад жизни. Пришлось освоить охоту на крупного хищного зверя. Люди стали селиться в крутые пещеры, катакомбы. В поисках пищи племена люди было оставаться на одном месте. Было изобретено первое механическое оружие - копье с каменным наконечником.

	Ошибка	Исправление
1	<u>12 тысяч лет</u>	<u>100 тысяч лет</u>
2	<u>было легко и просто</u>	<u>было трудно и сложно</u>
3	<u>первое мех. оружие</u>	<u>первое каменное оружие</u>
4		
5		
6		
7		
8		

Задание 8. (Максимум за задание – 5 баллов)

Решите задачи. ОБЯЗАТЕЛЬНО напишите арифметические действия.

1) В 1900 году археологами был раскопан могильник вождя, где найдены остатки бус из драгоценных камней, золотые и серебряные сосуды. Установлено, что захоронение было сделано за 7240 лет до его выхода археологами. В каком году была захоронен вождь? Запишите решение и ответ. (2 балла)

Решение _____

2) Считается, что первую пирамиду задний Икхотеп начал строить в 2750 г. до н.э. Последнюю пирамиду построена в 1760 г. до н.э. Сколько лет прошло между постройкой первой и последней пирамиды? Сколько лет назад были построены последние пирамиды? Приведите свои вычисления. (3 балла)

Решение _____

Задание 9. (Максимум за задание – 5 баллов)

Прочитайте стихотворение В.И. Берестова. Выполните задания.

Раз первобытные дети
Пошли в первобытный лес.
И первобытное солнце
Глядело на них с небес.
И встретили дети в чаще
Новедомого зверья,
Какого ещё ни разу
Не видавали люди.
Сказал первобытный шая:
«Ну, что ж, пошрайде с ним,
Когда он будет побольше,
Мы вместе его съедим».

Ночь. Первобытные люди
Сидят первобытным шном,
А первобытные востки.
Крадутся во мраке ночном.
Беда первобытным людям
Во сне беззащитном таким.
Как часто звериное брюхо
Могилою делалось им.
Но злых порошков почуяв,
Залагал отважный зверёк.

И эти люди первобытные
От гибели им уберёт
С пепой ходить на охоту
Он начал, когда подрост.
Так другом стал человеку
Всёгдай я верный нёс

9.1 Напишите, с возникновением какого занятия древних людей идёт речь. (1 балл)

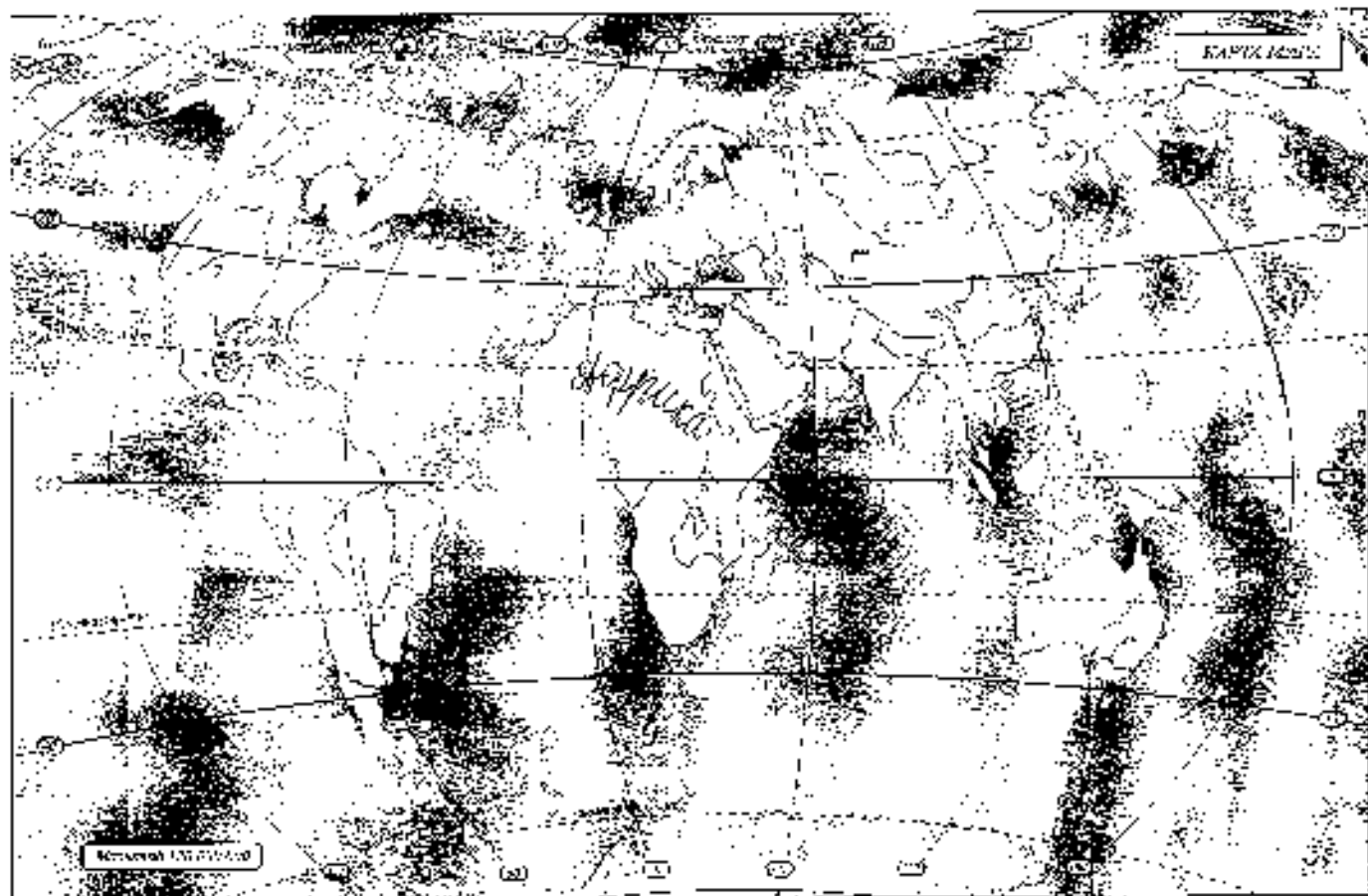
охота

9.2 Укажите, когда это занятие возникло. (1 балл)

9.3 Укажите не менее двух других животных, которых приручил человек в числе зверья. (2 балла)

белая сова, лиса

9.4 Напишите на карте название материка, который первобытные герои стихотворения могут назвать своей «родиной». (1 балл)



Задание 10. Выбери, насколько ты знаком с историей своей «малой родины» Югры. (Всего можно набрать – 9 баллов).

10.1. Коренные народы Югры – ханты, манси и ненцы – всегда относились к природе с любовью и уважением. Местом религиозного поклонения стали былые пейзажи в форме священных урочищ, где запрещались промыслы. Выбери священное место, где у коренных жителей Югры были запрещены промыслы. (2 балла)

1. Ниродная гора 2. Озеро Нуэто 3. Барыча горы 4. Озеро Щучье

Ответ: 1, 2, 3, 4


10.2 Выбери из списка профессиональные праздники, особо значимые для жителей Югры. (3 балла)

1. День моряка-подводника
 2. День металлурга
 3. День нефтяника
 4. День работника атомной промышленности
 5. День оленевода
 6. День речного и морского флота

Ответ: 3, 5, 6

10.3. Сопоставь названия предметов быта коренных народов Севера с изображениями этих предметов, вписав в таблицу их номера. (4 балла)

1	2



Оцни:

облас	чум +	нарты +	лабаз
3	1	4	2

ВСЕГО 75 БАЛЛОВ.

2

**Всероссийская олимпиада школьников по истории
2023/24 учебный год
Школьный этап**

Задания для участников 5-х классов

Шифр 40-5-10

Инструкции по выполнению работ
Время на выполнение работы – 45 минут.
Максимальное количество баллов – 75.

Уважаемый участник!

При выполнении работы внимательно читайте текст заданий. Содержание ответов вписывай и определяйте подл, запись веди четко и разборчиво.

За каждый правильный ответ можно получить определенное количество баллов, но не выше указанной максимальной оценки. Сумма набранных баллов за все решенные вопросы – итог работы.

Задания считаются выполненными, если Вы вовремя сдали их членам жюри.

Желаем успеха!

Таблица для внесения баллов заполняется членами жюри

1	2	3	4	5	6	7	8	9	10	Общая сумма баллов	Место
2	6	3	6	6	0	0	3	3	8	41	Музей

Задание 1. (Максимум за задание – 3 балла). Перед вами фотографии, иллюстрирующие различные эпохи истории человечества. Выберите номера изображений, связанных с историей Древнего мира.

1 2



3 4



5

6



2. Ответ: 4, 2, 6

Задание 2. (Максимум за задание 6 баллов, за каждый правильный ответ 1 балл) Верите ли следующие утверждения («да» – «нет»)? Ответы внесите в таблицу.

- 2.1. Около 2,5 млн лет назад появились люди, по своему облику похожие на современного человека.
- 2.2. Самый длительный эпоха в истории человечества – Новое время.
- 2.3. Золото было основным металлом, из которого производили орудия труда первобытные люди.
- 2.4. Коллектив кровных родственников именовался родовой общиной.
- 2.5. Люди эпохи палеолита уже умели пользоваться огнем.
- 2.6. Первыми одомашненными животными были лошади.

Ответ:

2.1	+	2.2	+	2.3	-	2.4	+	2.5	+	2.6	+	6
Нет		Нет		Нет		Да		Да		Нет		

Задание 3. (Максимум за задание 5 баллов). Расставьте годы в века в первой хронологической последовательности.

- 1) II век до н. э. 2) 478 год до н. э. 3) 1945 год н. э. 4) XII век н.э. 5) 2023 год н.э.

Ответ:

А	Б	В	Г	Д	Е	5
1	2	4	3	5		

Задание 4. (Максимум за все задание 12 баллов) Перед вами различные изобретения человека, созданные им с древнейших времён до наших дней. Рассмотрите изображения и выполните задания.



3

4



5 6



4.1. Сопоставьте изображения предметов с их названиями.

Номер изображения предмета	Название изобретения
1	А. персональный компьютер
2	Б. паровой двигатель (паровая машина)
3	В. бензиновый двигатель внутреннего сгорания
4	Г. деревянный плуг
5	Д. шлуф
6	Е. ручной книгопечатный станок

Ответ:

1	2	3	4	5	6	6
Д	Б	Г	В	Г	А	

Максимум за задание – 6 баллов. За каждую верную пару – 1 балл

4.2. Расположите представленные предметы в порядке их изобретения человеком. В таблицу ниже выпишите буквы, которыми обозначены названия данных изобретений.

Ответ:


1	2	3	4	5	6	0
Г	Б	Д	В	А	Б	6

Максимум за задание – 6 баллов. За каждую верную пару – 1 балл

Задание 5. (Максимум за всё задание 6 баллов) Перед вами фотографии, иллюстрирующие деятельность историков.

5.1. Выберите номера изображений, связанных с работой археологов и запишите их.

1	4	2	6
---	---	---	---



3



4



5



6



5.1 Ответ:

Максимум за задание – 3 балла

5.2. Выбери верные и неверные утверждения. Ответы (да/нет) внеси в таблицу.

1. Все профессии угловых, изображенных на картинке, связаны с археологией.
2. Работа этих ученых связана с изучением жизни современных людей.
3. В своей работе ученые-археологи используют лопаты и кисточки.
4. В ходе работы ученые проводят раскопки.
5. Ученые этой профессии изучают здания, украшения, наскальные рисунки, захоронения, оружие.

Ответ:

1	2	3	4	5
нет	нет	нет	да	да

Максимум за задание – 5 баллов. За каждое верно выбранное утверждение – 1 балл.

Задание 6. (Максимум за задание – 6 баллов. 2 балла за каждый правильный вывод). Прочитайте описание погребения, обнаруженного археологами на знаменитой стоянке Сунгирь во Владимирской области.

«Почти погребение, расположенное под террасой, принадлежало взрослому мужчине. Покойник лежал на спине в вытянутом положении. При нем были положены кремневый нож, скребло и обломок костяного предмета. Сделан был густо засыпан охрой, и на нем лежали многочисленные бусы из бивня мамонта. Расположение бус, сохранивших первоначальное положение, позволило реконструировать одежду. Костюм состоял из нераспашной рубахи, штанин, соединённых с обувью, и, возможно, плещи. На голове была надета шапка, богато украшенная бусами из

Задание 8. (Максимум за задание – 3 балла)

Решите задачи. ОБЯЗАТЕЛЬНО напишите арифметические действия.

1) В 1900 году археологами был раскопан могильник вождя, где найдены остатки бус и драгоценных вещей, золотые и серебряные сосуды Усачовлево. Что изобрести было сделано за 7240 лет до его находки археологами. В каком году был захоронен вождь? Запишите решение и ответ. (2 балла)

Решение $7240 - 1900 = 5340$ лет до нашей эры

2) Считается, что первую пирамиду вавилоний Импотел начал строить в 2750 г. до н.э. Последние пирамиды построены в 1700 г. до н.э. Сколько лет прошло между достройкой первой и последней пирамиды? Сколько лет назад были построены последние пирамиды? Приведите свои вычисления. (3 балла)

Решение $2750 - 1700 = 1050$ лет

Задание 9. (Максимум за задание – 3 балла)

Прочитайте стихотворение (4.)1. Переставь. Выполните задания.

Раз первобытные дети
 Пошли в первобытный лес.
 И первобытное сырое
 Мясо на них с небес.
 И встретили дети в чаще
 Неизвестного зверя,
 Какое ещё ни разу
 Не видели пока.
 Сказал первобытный дитя:
 «Ну, что ж, поиграйте с ним,
 Когда он будет побольше.
 Мы вместе его съедим».

Почт. Первобытные люди
 Сним первобытным сним,
 А первобытные полтя,
 Крадутся во зраке почтот.
 Беда первобытным людям
 Во сне беззащитным тахтм.
 Как часто звериное брюхо
 Миллион делалось им.
 Но злых злодеев почтот,
 Злыми оставший зверёк

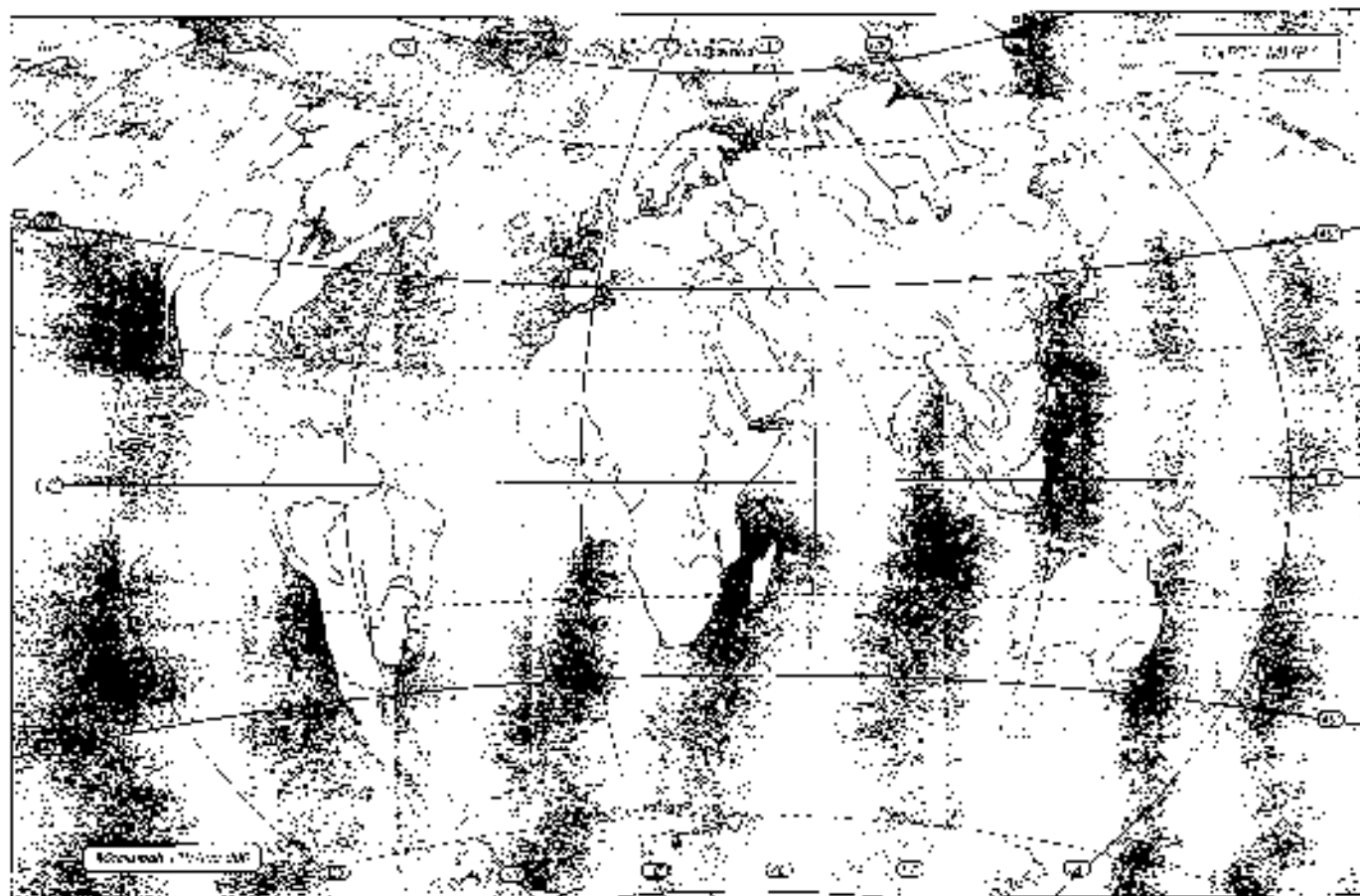
И детям людей первобытных
 От тибетки от уберёт
 С папой ходить на охоту
 Он нятал, когда подрост
 Так другим стал человеку
 Веселый и верный пёс

9.1 Напишите, о каких животных такого родах древних людей идёт речь. (1 балл) $+$ 1
С. п. звери

9.2 Укажите, когда это занятие возникло (1 балл) _____

9.3 Укажите не менее двух других животных, которых приручил человек в числе первых. (2 балла)
Собака, лошадь $+$ 1

9.4 Напишите на карте выходящие материалы, которыми первобытные люди изготавливали орудия труда. (1 балл)
Дерево $+$ 1



Задание 10. Выясни, насколько ты знаком с историей своей «малой родины» Югры. (Максимум за задание – 9 баллов).

10.1. Коренные народы Югры – ханты, манси и ненцы – всегда относились в природе с любовью и уважением. Местом религиозного почитания становятся целые ландшафты и формы священных урочищ, где запрещались промыслы. Выбери символические места, где у коренных жителей Югры были запрещены промыслы. (2 балла)

1. Нарощива гора
2. Озеро Нумто
3. Барсова гора
4. Озеро Шутте

Ответ: 2 _____

10.2 Выбери из списка профессиональные праздники, особо значимые для жителей Югры. (3 балла)

1. День моряки-инженеры
2. День металлурга
3. День нефтяника
4. День работника пищевой промышленности
5. День оленевода
6. День речного и морского флота


Ответ: 3, 6, 5 _____

10.3. Сопоставь названия предметов быта коренных народов Севера с изображениями этих предметов, вписав в таблицу их номера. (4 балла)


	2
--	---



3



4



Ответ:

облас	+	чум	+	парны	+	лабаз	+
2	1	3 2 1		1		3	

4

ВСЕГО 75 БАЛЛОВ.

**Всероссийская олимпиада школьников по истории
2023/24 учебный год
Школьный этап**

Задания для участников 5-х классов

Шифр ИС-5-16

Инструкция по выполнению работ
Время на выполнение работы – 45 минут.
Максимальное количество баллов – 75.

Уважаемый участник!

При выполнении работы внимательно читай текст заданий. Содержащие ответы вопросы в отведённое поле, пиши чётко и разборчиво.

За каждый правильный ответ можно получить определённое количество баллов, до пописе указанной максимальной оценки. Сумма набранных баллов за все решённые вопросы – итог работы.

Задания считаются выполненными, если Вы вовремя сдали их членам жюри.

Желаем успеха!

Таблица для внесения баллов заносится членами жюри

1	2	3	4	5	6	7	8	9	10	Общая сумма баллов	Место
7	5	5	7	5	4	6	4	2	5	41	Крижор

Задание 1. (Максимум за задание – 3 балла). Перед вами фотографии, иллюстрирующие различные эпохи истории человечества. Выберите номера изображений, связанных с историей Древнего мира.

1 2



3 4



5

6



Ответ: 1, 4

Задание 2. (Максимум за задание – 6 баллов, за каждый правильный ответ 1 балл). Верны ли следующие утверждения («да» – «нет»)? Ответы впишите в таблицу.

- 2.1. Около 7,5 млн лет назад появился полет, по своему облику похоже на современного человека.
- 2.2. Самая длительная эпоха в истории человечества – Новое время.
- 2.3. Золото было основным металлом, из которого древнейшие орудия труда перерабатывали люди.
- 2.4. Коллектив древних римлянцев называется родовой общиной.
- 2.5. Люди эпохи неолита уже умели пользоваться огнем.
- 2.6. Первым одомашненным животным была лошадь.

Ответ:

2.1	–	2.2	+	2.3	+	2.4	+	2.5	+	2.6	+
да		нет		нет		да		да		нет	

Задание 3. (Максимум за задание – 3 балла). Расставьте годы и века в первой хронологической последовательности.

- 1) II век до н. э. 2) 178 год до н. э. 3) 1945 год н. э. 4) XII век н. э. 5) 2023 год н. э.

Ответ:

А	Б	В	Г	Д
2	1	4	3	5

Задание 4. (Максимум за всё задание 12 баллов). Перед вами различные изобретения человека, созданные им с древнейших времён до наших дней. Рассмотрите изображения и выполните задания.



3

4



5 6



4.1. Соотнесите изображения предметов с их названиями.

Номер изображения предмета	Название изобретения
1	А. персональный компьютер
2	Б. паровой двигатель (паровая машина)
3	В. бензиновый двигатель внутреннего сгорания
4	Г. деревянный ступ
5	Д. шкаф
6	Е. ручной типографский станок

Ответ:

1	2	3	4	5	6
Г	Б	В	Д	Е	А

Максимум за задание – 6 баллов. За каждую верную пару – 1 балл

4.2. Расположите представленные предметы в порядке их изобретения человеком. В таблицу ниже выпишите буквы, которыми обозначены названия данных изобретений.

Ответ:

1	2	3	4	5	6
Г	Б	В	Д	Е	А

Максимум за задание – 6 баллов. За каждую верную пару – 1 балл

Задание 5. (Максимум за всё задание: 8 баллов) Перед вами фотографии, иллюстрирующие деятельность историков.

5.1. Выберите номера изображений, связанных с работой археологов и запишите их.

1	2



4 5.1 Ответ: Х, Б, Г Максимум за задание - 1 балл.

5.2. Выбери верные и неверные утверждения. Ответы (да - «да» - «нет») вноси в таблицу.

1. Все профессии ученых, изображенных на картинке, связаны с археологией.
2. Работа этих ученых связана с изучением жизни современных людей.
3. В своей работе ученые - археологи не используют планы и источники.
4. В ходе работы ученые проводят раскопки.
5. Ученые этой профессии изучают здания, украшения, наскальные рисунки, захоронения, оружие.

Ответ:

1	2	3	4	5
нет	нет	да	да	нет

Максимум за задание - 5 баллов. За каждое верно выбранное утверждение - 1 балл.

Задание 6. (Максимум за задание - 6 баллов, 2 балла за каждую правильную находку) Прочитайте описание погребения, обнаруженного археологами на знаменитой стоянке Сувгирь во Владимирской области.

«Второе погребение, раскопанное под первым, принадлежало взрослому мужчине. Покойник лежал на спине в вытянутом положении. При нем была найдена кремневый нож, скребло и обломок костяного предмета. Смерть была густо засыпана охрой, и на нем лежали многочисленные бусы из бивня мамонта. Размещение бус, сохранивших первоначальное положение, позволило реконструировать одежду. Костюм состоял из нераспаятой рубахи, штанин, соединенных с обувью, и, возможно, шапки. На голове была надеты шапка, богато украшенная бусами из

Задание 8. (Максимум за задание – 5 баллов)

Решите задачи. ОБЯЗАТЕЛЬНО напишите арифметические действия.

1) В 1900 году археологами был раскопан могильщик вождя, где найдены остатки: бус и три оленьих кампоя, золотые и серебряные сосуды. Установлено, что захоронение было сделано за 7240 лет до его находки археологами. В каком году был захоронен вождь? Запишите решение и ответ. (2 балла)

Решение 7240 - 3000 = 4240 - и. н. э.
4240 - 1500 = 2740 - и. н. э.

2) Считается, что первую пирамиду египтян Ифхотеп начал строить в 2750 г. до н.э. Последняя пирамида построена в 1700 г. до н.э. Сколько лет прошло между постройкой первой и последней пирамиды? Сколько лет назад была построена последняя пирамида? Приведите свои вычисления. (3 балла)

Решение 2750 - 1700 = 1050 лет
2750 + 1700 = 4450 лет

Задание 9. (Максимум за задание – 5 баллов)

Прочитайте стихотворение В.Д. Берестова. Выполните задания.

Раз первобытные люди
Пошли в первобытный лес.
И первобытные солнышки
Глядели на них с небес.
И встали дети в чаше
Шведского зверька,
Какого еще ты рачу
Не видывали тыка.
Сказал первобытный пана:
«Ну, что ж, поиграйте с ним.
Когда он будет побольше,
Мы вместе его съедем».

Ночь. Первобытные люди
Спят первобытным сном.
А первобытные волки
Крадуся во мраке ночью.
Беда первобытным людям
Во сне беззащитным людям.
Как часто звериное брюхо –
Мощною делалось ям.
По злым голодосов погуляв,
Зелены отвижный зверек.

И этим людям первобытным
От гибели он уберет
С палкой хонька на охоту
Он налет, когда шорис.
Так друтом стал человеку
Веселый и верный лес.

9.1 Напишите, о воспитании какого животного древних людей идет речь (1 балл)

О волке, мышоводстве

9.2 Укажите, когда это занятие появилось (1 балл)


в 9000 лет до н.э.

9.3 Укажите на карте одну из других животных, которых приручили человек в то же время (2 балла)

Коровы, лошади, свиньи

9.4 Пашите на карте название материка, который первобытные герои стихотворения могут назвать своей «родной». (1 балл)

на Евразии



Ответ:

облас —	чум +	парны —	лабаз —
4	7	3	2
			1

ВСЕГО 75 БАЛЛОВ.

Всероссийская олимпиада школьников по истории
2023/24 учебный год
Школьный этап

Задания для участников 5-х классов

Шифр ИИ-5-03 _____

Инструкция по выполнению работ
 Время на выполнение работы – 45 минут.
 Максимальное количество баллов – 75.

Уважаемый участник!

При выполнении работы внимательно читай текст заданий. Содержание олимпиады выставляй в отведённые поля, записи сделай чётко и разборчиво.

За каждый правильный ответ можно получить определённое количество баллов, но не выше указанной максимальной оценки. Сумма набранных баллов за все решённые вопросы – итог работы.

Задания считаются выполненными, если Вы вовремя сдали их племью жюри.

Желаем успеха!

Таблица для внесения баллов составляется членами жюри

1	2	3	4	5	6	7	8	9	10	Общая сумма баллов	Место
1	5	2	10	6	2	8	3	2	4	39	призёр

Задание 1. (Максимум за задание – 3 балла). Перед вами фотографии, иллюстрирующие различные эпохи истории человечества. Выберите номера изображений, связанных с историей Древнего мира.

1 2



3 4



5

6



1. Ответ: Б.

Задание 2. (Максимум за задание 6 баллов, за каждый правильный ответ 1 балл). Верны ли следующие утверждения (еда – еда)? Ответы вносите в таблицу.

- 2.1. Около 2,5 млн лет назад появились люди, по своему облику похожие на современного человека.
- 2.2. Самая пышная эпоха в истории человечества. Пшеница.
- 2.3. Золото было основным металлом, из которого производили орудия труда первобытные люди.
- 2.4. Коллектив кроющих родственника пазухи родов обитой.
- 2.5. Люди эпохи палеолита уже умели пользоваться огнем.
- 2.6. Первым одомашненным животным была собака.

Ответ:

2.1	+	2.2	-	2.3	+	2.4	+	2.5	+	2.6	+
нет		да		нет		да		да		нет	

Б

Задание 3. (Максимум за задание 5 баллов). Расставьте годы и века в третьей хронологической последовательности.

- 1) II век до н.э.
- 2) 478 год до н.э.
- 3) 1945 год н.э.
- 4) XII век н.э.
- 5) 2023 год н.э.

Ответ:

А	Б	В	Г	Д
4)	2)	3)	1)	5)

д

Задание 4. (Максимум за все задание 12 баллов). Перед вами различные изобретения человека, созданные им с древнейших времен до наших дней. Рассмотрите изображения и выполните задания.




1



2

3

4



5 6



4.1. Соотнесите изображения предметов с их названиями.

Цифра изображения предмета	Название изобретения
1	А. переносный компьютер
2	Б. паровой двигатель (шиповая машина)
3	В. бензиновый двигатель внутреннего сгорания
4	Г. деревянный луг
5	Д. шадуф
6	Е. ручной книгопечатный станок

Ответ:

1	2	3	4	5	6	Г
А	Е	Б	В	Г	А	

Максимум за задание – 6 баллов. За каждую верную пару – 1 балл

4.2. Расположите представленные предметы в порядке их изобретения человеком. В таблицу ниже впишите буквы, которыми обозначены названия данных изобретений.

Ответ:

1	2	3	4	5	6	4
А	Г	Е	Б	В	А	

Максимум за задание – 6 баллов. За каждую верную пару – 1 балл

Задание 5. (Максимум за все задание 3 балла) Перед вами фотографии, иллюстрирующие деятельность историков.

5.1. Выберите номера изображений, связанных с работой археологов и запишите их.


1	2
---	---



3



4



5



6



1 5.1 Ответ: 2, 3, 4, 5, 6 Максимум за задание: 3 балла

5.2. Выберите верные и неверные утверждения. Ответы («да» «нет») впишите в таблицу.

1. Все профессии ученых, изображенных на картинке, связаны с археологией.
2. Работа этих ученых связана с изучением жизни современных людей.
3. В своей работе ученые - археологи используют лопаты и кисточки.
4. В ходе работы ученые проводят раскопки.
5. Ученые этой профессии изучают здания, украшения, ласкальные рисунки, захоронения, оружие.

Ответ:

1	2	3	4	5
нет	нет	да	да	да

Максимум за задание: 5 баллов. За каждое верно выбранное утверждение 1 балл.

Задание 6. (Максимум за задание - 6 баллов. 2 балла за каждый правильный ответ). Прочитайте описание погребения, обнаруженного археологами на знаменитой стоянке Сундари во Владимирской области.

«Второе погребение, расположенное под первым, принадлежало взрослому мужчине. Покойник лежал на спине в выпянутом положении. При нем были положены кремневый нож, скребло и обломок костяного предмета. Скелет был густо замочен охрой, и на нем лежали многочисленные бусы из бивня мамонта. Размещение бус, окружающих первоначально пологатые, позволило реконструировать одежду. Клетчат состоял из шерстяной рубахи, штанов, соединенных с обувью, и, возможно, плаща. На голове была надета шапка, богато украшенная бусами из

бывши и проверенных клыков дельта. На руках были тонкие браслеты из бисера и нитки бус. Под коленями и на приколках также прикреплены шерстяные нитки бус. По внутренней стороне ног нашились бусы образовывали длинные банты, соединяющие штаны и обувь. Весто было пачито сытые 3 500 бусына.

Что можно из этого описания узнать о жизни, занятиях, верованиях людей, которые оставили этот памятник? Сделайте 3 вывода.

1. Могло существовать разделение труда между людьми.
2. Люди носили украшения.
3. У людей были бусы.

Задание 7. Мысленно за задание 15 баллов. по 2 балла за каждую найденную и исправленную ошибку. Найдите 8 исторических ошибок в следующих учебники и исправьте их, заполнив таблицу.

Около 12 тысяч лет назад в природе лето не изменилось. Похолодало, ледник стал быстро таять и отступать на юг. Приспособиться к новым условиям было легко и просто. Домашнее тысячелетний уклад жизни. Пришлось освоить охоту на крупного хищного зверя. Люди стали еститься в крупные стаи, кабаньими. В поисках пищи охотникам надо было оставаться на одном месте. Было изобретено первое механическое оружие - копье с камешком наконечником.

Ошибки	Исправление
1. В поисках пищи первобытные люди долго скитались по степям и лесам.	В поисках пищи первобытные люди долго скитались по степям и лесам.
2. Приспособиться к новым условиям было легко и просто.	Приспособиться к новым условиям было не просто.
3. Домашнее тысячелетний уклад жизни.	Люди на тот момент жили в пещерах.
4. Пришлось освоить охоту на крупного хищного зверя.	Люди приспособились к охоте на крупных животных.
5. В поисках пищи охотникам надо было оставаться на одном месте.	Охотникам приходилось перемещаться в поисках пищи.
6.	
7.	
8.	

Задание 8. (Максимум за задание – 5 баллов)

Решите задачи. ОБЯЗАТЕЛЬНО напишите арифметические действия.

1) В 1900 году археологами был раскопан мексиканский погреб, где найдены остатки бус из драгоценных камней, жемчуга и серебряные сосуды. Установлено, что захоронение было сделано за 7240 лет до эры находят археологами. В каком году был захоронен погреб? Запишите решение и ответ. (2 балла)

Решение $1240 - 1900 = 5340$ + 2

2) Считается, что первую пирамиду египетской Имхотеп начал строить в 2750 г. до н.э. Последующие пирамиды построены в 1700 г. до н.э. Сколько лет прошло между постройкой первой и последней пирамиды? Сколько лет назад были построены последние пирамиды? Приведите свои вычисления. (3 балла)

Решение $2750 - 1700 = 1050$ + 3

Задание 9. (Максимум за задание – 5 баллов)

Прочитайте стихотворение И.Д. Берестова. Выполните задания.

Раз первобытные дети
Пошли в первобытный лес.
И первобытное солнце
Глядело на них с небес.
И встретили дети в чаще
Неведомое зерно.
Какого ещё ни разу
Не видели док.
Сказал первобытный папа:
«Ну, что ж, поиграйте с ним,
Когда он будет побольше.
Мы вместе его съедим».

Ночь. Первобытные люди
Спят первобытным сном,
А первобытные волки
Крадутся по мраве почтом.
Беда первобытным людям
Во сне беззащитным людям.
Как часто звериное брюхо –
Могилою делалось им.
Но злых людоедов погуляв,
Злился отважный зверёк.

И эти, людей первобытных
От гибели он уберёт
С папой ходить на охоту
Он начал, когда подросток.
Так друком стал человеку
Всёблизкий и верный пёс

9.1 Напишите, о возникновении какого занятия древних людей идёт речь. (1 балл)

о земледелии и скотоводстве

9.2 Укажите, когда это занятие возникло. (1 балл)

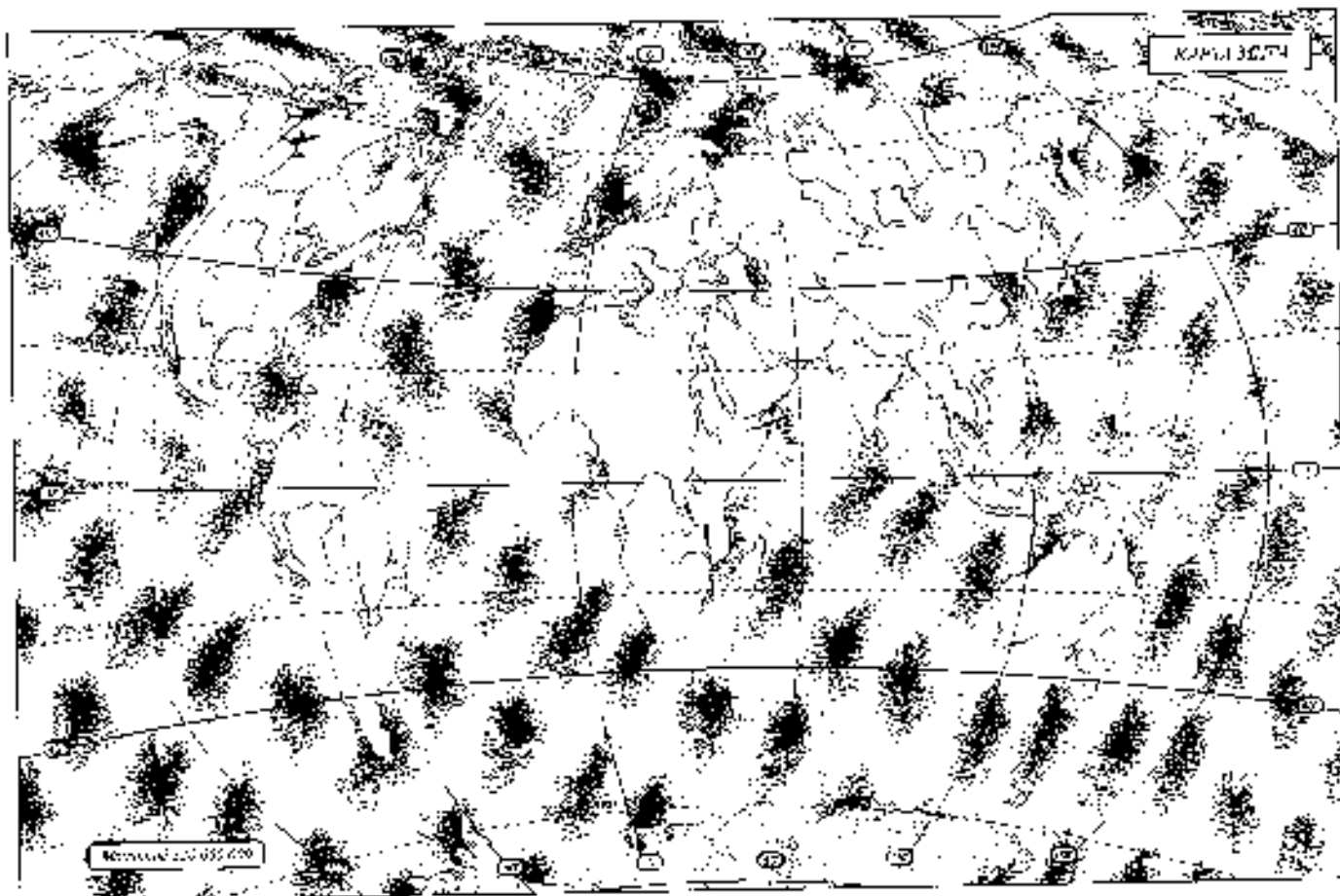
в древние века.

9.3 Укажите не менее двух других животных, которых приручил человек в числе первых. (2 балла)

Собака, лошадь

9.4 Напишите на карте название материка, который первобытные герои стихотворения могут назвать своей «прародиной». (1 балл)

Африка



Задание 10. Выдели, насколько ты знаешь, с историей своей «малой родины» Югры. (Минимум по заданию 9 баллов).

10.1. Коренные народы Югры – ханты, манси и шенги – всегда относились к природе с любовью и уважением. Местом религиозного почитания стали целые ландшафты в форме священных урочищ, где запрещались промыслы. Выбери священные места, где у коренных жителей Югры были запрещены промыслы. (2 балла)

1. Народная гора 2. Озеро Нунто 3. Барсова гора 4. Озеро Щучье

Ответ: 2 _____ _____ |


10.2 Выбери из списка профессиональные праздники, особо значимые для жителей Югры. (3 балла)

1. День моряка-подводника
2. День металлурга
3. День нефтяника
4. день рабочих атомной промышленности
5. День оленевода
6. День речного и морского флота

Ответ: 3, 4 _____ _____ |

10.3. Сопоставь названия предметов быта коренных народов Севера с изображениями этих предметов, вписав в таблицу их номера. (4 балла)

_____	_____	1	_____	_____	_____	2	_____
-------	-------	---	-------	-------	-------	---	-------



Отвот:

облас	-	чум	+	нарты	+	лабаз	-
3		1		4		2	1

ВСЕГО 75 БАЛЛОВ.

Всероссийская олимпиада школьников по истории
2023/24 учебный год
Школьный этап

Задания для участников 5-х классов

Шифр ИЕ - 5 - 14

Инструкция по выполнению работ
 Время на выполнение работы – 45 минут.
 Максимальное количество баллов – 75.

Уважаемый участник!

При выполнении работы внимательно читай текст заданий. Содержание ответа вписывай в отведённые поля, записывай чётко и разборчиво.

За каждый правильный ответ можно получить определённое количество баллов, но не выше указанной максимальной оценки. Сумма набранных баллов за все решённые вопросы – итог работы.

Задания считаются выполненными, если Вы вовремя сдали их члену жюри.

Желаем успеха!

Таблица для внесения баллов заполняется членами жюри

1	2	3	4	5	6	7	8	9	10	Общая сумма баллов	Место
3	4	7	6	5	4	6	3	3	4	39	призёр

Задание 1. *Максимум за задание – 3 балла.* Перед вами фотографии, иллюстрирующие различные эпохи истории человечества. Выберите номера изображений, связанных с историей Древнего мира.

1 2



3 4



5



6



Ответ: 1, 3, 6

Задание 2. (Максимум за задание – 5 баллов, за каждый правильный ответ 1 балл). Верны ли следующие утверждения (да/нет)? Ответы внесите в таблицу.

- 2.1. Около 2,5 млн лет назад появились люди, по своему облику похожие на современного человека.
- 2.2. Самая длительная эпоха в истории человечества - Палеолит.
- 2.3. Золото было основным металлом, из которого производили орудия труда первобытные люди.
- 2.4. Коллектив кровных родственников называется родовой общиной.
- 2.5. Люди эпохи палеолита уже умели пользоваться огнем.
- 2.6. Первыми одомашненными животными были лошади.

Ответ:

2.1	+	2.2	-	2.3	+	2.4	+	2.5	-	2.6	+
Нет		Да		Нет		Да		Нет		Нет	

Задание 3. (Максимум за задание – 3 балла). Расставьте годы и века в верной хронологической последовательности.

- 1) II век до н. э. 2) 478 год до н. э. 3) 1945 год н. э. 4) XII век н. э. 5) 2023 год н. э.

Ответ:


А	Б	В	Г	Д
5	3	4	1	2

Задание 4. (Максимум за всё задание 12 баллов). Перед вами различные изобретения человека, созданные им с древнейших времен до наших дней. Рассмотрите изображения и напишите задания.



3

4



5 6



4.1. Сопоставьте изображения предметов с их названиями.

Номер изображения предмета	Название изобретения
1	А. персепальный компьютер
2	Б. паровой дыматель (широкая машина)
3	В. бронзовый двигатель внутреннего сгорания
4	Г. деревянный мост
5	Д. палуф
6	Е. ручной или опечатный станок

Ответ:

1	2	3	4	5	6	6
Д	Б	В	А	Г	Е	

Максимум за задание – 6 баллов. За каждую верную пару – 1 балл

4.2. Расположите представленные предметы в порядке их изобретения человеком. В таблицу ниже впишите буквы, которыми обозначены названия данных изобретений.

Ответ:

1	2	3	4	5	6	8
Б	В	А	Г	Д	Е	

Максимум за задание – 6 баллов. За каждую верную пару – 1 балл

Задание 5. (Максимум за все задание 8 баллов) Перед вами фотографии, иллюстрирующие деятельность историков.

5.1. Выберите номера изображений, связанных с работой археологов и запишите их.

1	5	7	6
---	---	---	---



1



4



5



6



5.1 Ответ: *5, 6* Максимум за задание - 3 балла.

5.2. Выбери верные и неверные утверждения. Ответы («да» – «нет») внеси в таблицу.

1. Все профессии ученых, изображенных на картинке, связаны с археологией.
2. Работа этих ученых связана с изучением жизни спарменитых людей.
3. В своей работе ученые - археологи используют лопаты и кисточки.
4. В ходе работы ученые проводят раскопки.
5. Ученые этой профессии изучают здания, украшения, писанные рисунки, захоронения, оружие.

Ответ:

1	+	2	+	3	+	4	-	5	+
<i>Нет</i>		<i>Нет</i>		<i>Да</i>		<i>Нет</i>		<i>Да</i>	

Максимум за задание - 3 балла. За каждое верно выбранное утверждение - 1 балл.

Задание 6. (Максимум за задание - 6 баллов, 2 балла за каждую правильную оценку). Прочитайте описание погребения, обнаруженного археологами на территории поселения Сутгирь во Владимирской области.

«Возле погребения, расположенного под деревом, принадлежало взрослому мужчине. Покойник лежал на спине в вытянутом положении. При нем были найдены кременевый нож, серебро и обломок костяного предмета. Стебель был густо засыпан охрой, и на нем лежали многочисленные бусы из бивня мамонта. Размещение бус, сохранявших первоначальное положение, позволяло реконструировать одежду. Костюм состоит из пернатой рубахи, штанив, обшитых с обувью, и пояса. На голове была надета шапка, богато украшенная бусами из

бывая и просверленных каймов пещи. На руках были тонкие браслеты из бивня и шпала бус. Под коленями и на щиколотках также просверлены перьяшки из связок бус. По внутренней стороне ног (таптытые бусы образовывали длинные лямпасы, соединяющие штаны и обувь. Всего было найдено около 2 500 бусинок.

Что можно из этого описать узнать о жизни, занятиях, верованиях людей, которые оставили этот памятник? Сделайте 3 вывода.

1. Пещера была местом управления и была намошена +
2. Они занимались охотой, земледелием, и скотоводством +
3. Люди жили в бивне и то что если они носили бусы в виде ожерелья - судя по всему +

Задание 7. (Максимум за задание 16 баллов, по 2 балла за каждую найденную и исправленную ошибку). Найдите 8 исторических ошибок в сочинении ученика и исправьте их, заполнив таблицу.

Около 12 тысяч лет назад в природе почти не изменилось. Похолодало, ледник стал быстрее таять и отступил на юг. Приспособиться к новым условиям было легко и просто. Помылся плетящийся уклад жизни. Пришлось освоить охоту на крупных «китного зверя». Люди стали скитаться в крупные пещеры, катакомбы. В поисках пищи племена часто было оставаться на одном месте. Было изобретено первое механическое оружие - копье с каменным наконечником.

Ошибка	Исправление
1. Около 12 тысяч лет назад в природе почти не изменилось.	12 тысяч лет назад климат сильно похолодало +
2. Похолодало, ледник стал быстрее таять и отступил на юг.	Исправка
3. Приспособиться к новым условиям было легко и просто.	Приспособиться стало тяжело и так как охотиться стало сложнее +
4. Помылся плетящийся уклад жизни.	Исправка
5. Пришлось освоить охоту на крупных «китного зверя».	Исправка
6. Люди стали скитаться в крупные пещеры, катакомбы.	Исправка
7. Было изобретено первое механическое оружие - копье с каменным наконечником.	Нужно было изобрести и сделать но не изобрести и сделать +
8. Было изобретено первое механическое оружие - копье с каменным наконечником.	Первое механическое оружие это ружье -

Задание 8. (Максимум за решение - 5 баллов)

Решите задачу. ОБЪЕДИНИТЕarithmetические действия.

1) В 1900 году археологами был раскопан могильник вождя, где найдены остатки бус из драгоценных камней, золотые и серебряные сосуды. Установлено, что захоронение было сделано за 7240 лет до его похода археологами. В каком году был захоронен вождь? Запишите решение и ответ. (2 балла)

Решение $7240 - 1900 = 5340$ +

2) Считается, что первую пирамиду египетский Фараон начал строить в 2750 г. до н.э. Последнее пирамиды построены в 1700 г. до н.э. Сколько лет прошло между постройкой первой и последней пирамиды? Сколько лет назад были построены последние пирамиды? Приведите свои вычисления. (3 балла)

Решение $2750 - 1700 = 1050$ +1

Задание 9. (Максимум за решение - 5 баллов)

Прочитайте стихотворение В.Д. Берестова. Выполните задания.

Раз первобытные дети Попали в первобытный лес. И первобытное общество Глядело на них с небес. И встретили дети в пале Неведомого зверька. Какого ещё ни разу Не видели люди. Сказал первобытный пале: «Пу, что ж, поиграйте с ним. Когда он будет побольше, Мы вместе его съедим».	Попы. Первобытные люди Спят первобытные люди, А первобытные люди, Крадуются во мраке ночном. Бела первобытные люди Во сне беззащитным телом. Как часто звериное брюхо — Могучую делалось им. Но злых людей почуяв, Завыл отползший зверёк.	И лям людей первобытных От гибели он уберёт С шкурой хохотать на охоту Он начал, когда погрозил. Так другом стал человеку Весёлый и верный лис
---	---	---

9.1 Напишите, о возникновении какого занятия древних людей идёт речь (1 балл)

Охота

9.2 Укажите, когда это занятие возникло (1 балл)

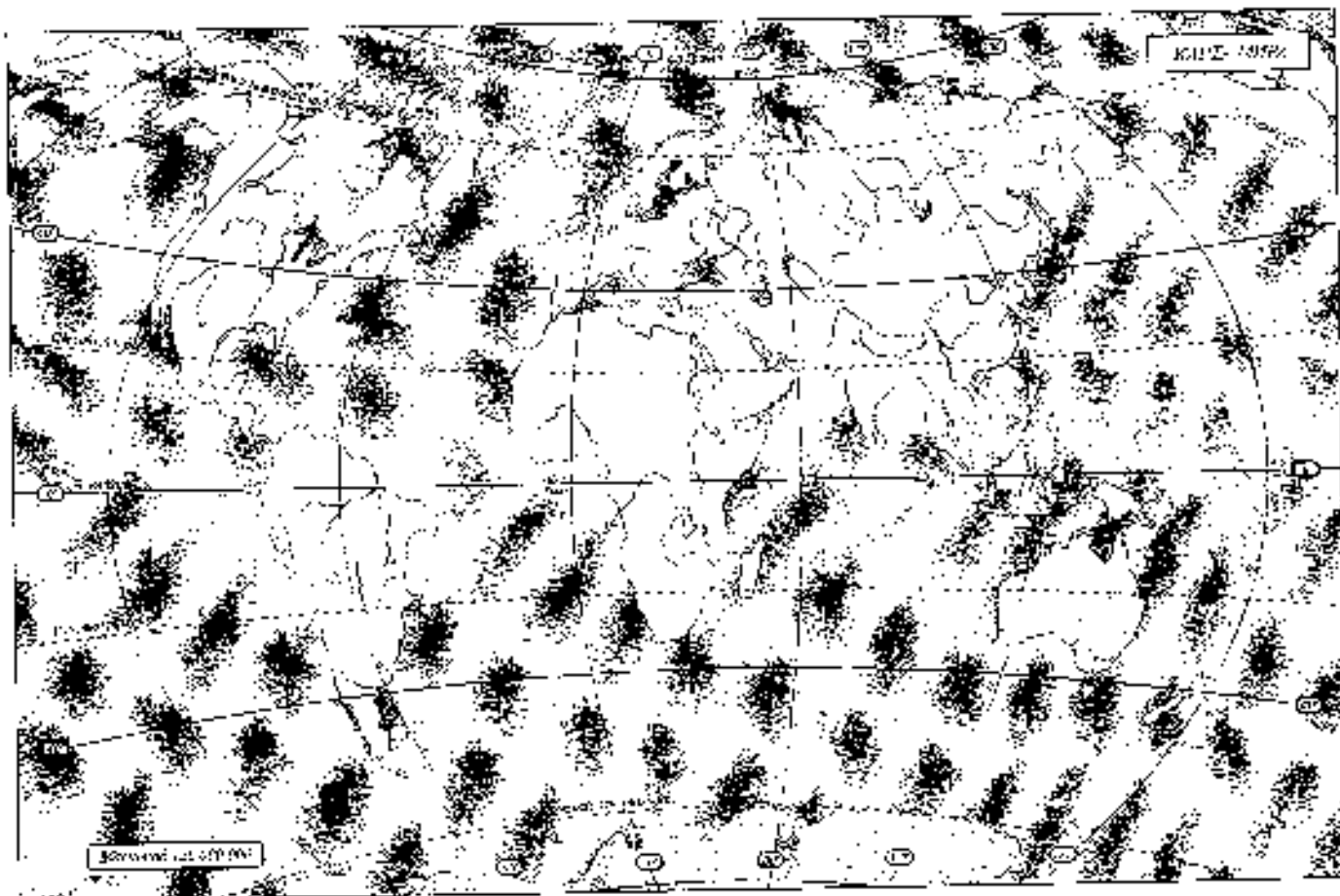
.....

9.3 Укажите не менее двух других животных, которых приручил человек в числе первых. (2 балла)

кошка, собака, лошадь, свинья, волк

9.4 Напишите на карте название материка, который первобытные герои стихотворения могут назвать своей «прародиной». (1 балл)

Евразия



Задание 10. Выясни, насколько ты знаком с историей своей «красной родины» Югры. (Максимум за задание – 9 баллов).

10.1. Коренные народы Югры – ханты, манси и ненцы – всегда относились к природе с почетом и уважением. Местом религиозного почитания становились целые ландшафты в форме вытянутых урочищ, где запрещались промыслы. Выбери священное место, где у коренных жителей Югры были запрещены промыслы. (2 балла)

1. Ныршная гора
2. Озеро Нукто
3. Бархана гора
4. Озеро Шучье

Ответ: 1 _____

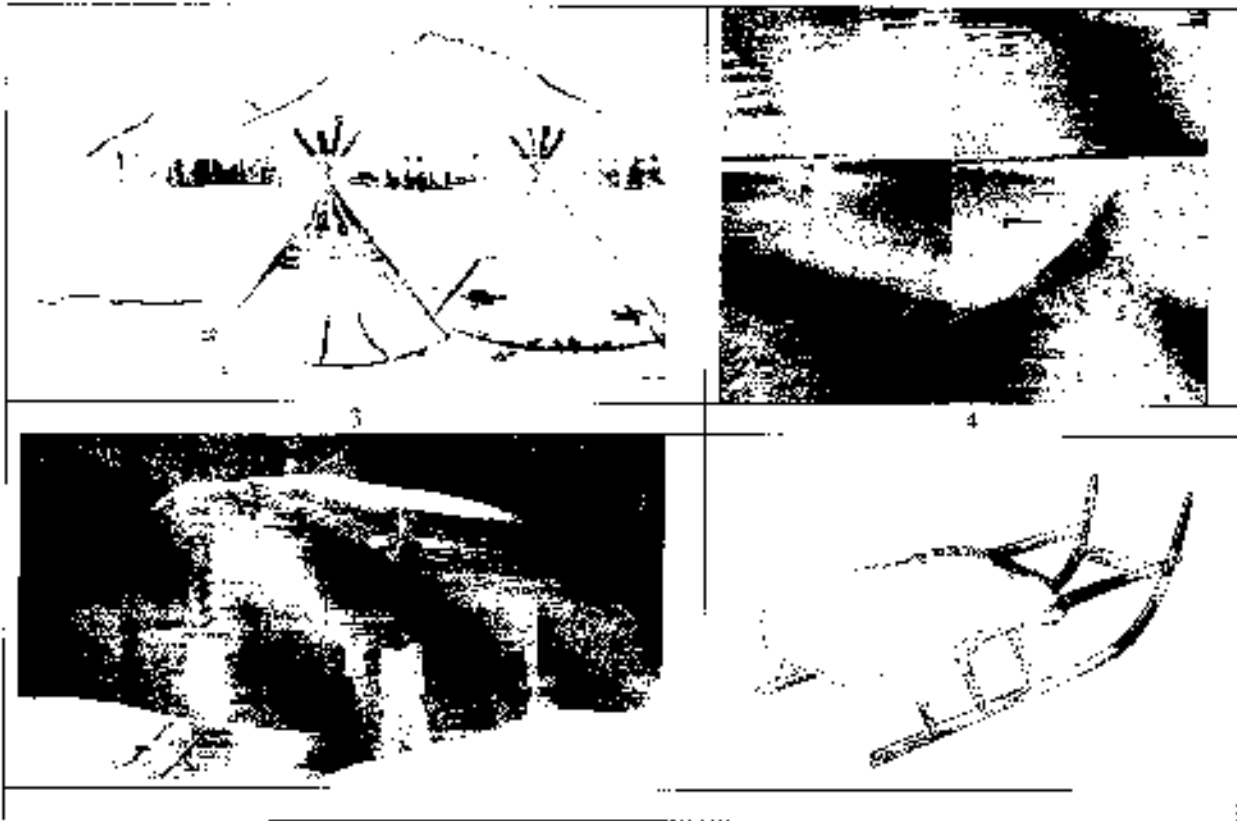
10.2 Выбери из списка профессиональные праздники, особо значимые для жителей Югры. (3 балла)

1. День моряка-подводника
2. День металлурга
3. День нефтяника
4. День работника атомной промышленности
5. День оленевода
6. День речного и морского флота

Ответ: 3, 6 _____

10.3. Сопоставь названия предметов быта коренных народов Севера с изображениями этих предметов, вписав в таблицу их номера. (4 балла)

	2
--	---



Ответ:

облас	—	чум	+	нарты	+	лабаз	—
3		3		4		2	

ВСЕГО 75 БАЛЛОВ.

2

**Всероссийская олимпиада школьников по истории
2023/24 учебный год
Школьный этап**

Задания для участников 5-х классов

Шифр МС-5-28

Инструкция по выполнению работ
Время на выполнение работы – 45 минут.
Максимальное количество баллов – 75.

Уважаемый участник!

При выполнении работы внимательно читайте текст заданий. Содержащие ответы вписывая в отведённые поля, записывайте чётко и разборчиво.

За каждый правильный ответ можно получить определённое количество баллов, но не более указанной максимальной оценки. Сумма набранных баллов за все решённые вопросы – итог работы.

Задания считаются выполненными, если Вы вовремя сдали их пленум жюри.

Желаем успеха!

Таблица для вписывания баллов заполняется пленумом жюри

1	2	3	4	5	6	7	8	9	10	Общая сумма баллов	Место
1	5	3	4	8	0	10	2	1	5	39	1 место

Задание 1. (Максимум за задание – 3 балла). Перед нами фотографии, иллюстрирующие различные эпохи истории человечества. Выберите номера изображений, связанных с историей Древнего мира.

1 2



3 4



5

6



Ответ: Б

Задание 2. (Максимум за задание - 6 баллов за каждый правильный ответ 1 балл). Верны ли следующие утверждения (да/нет)? Ответы впишите в таблицу.

- 2.1. Около 2,5 млн лет назад появились люди, по способу облику похожие на современного человека.
- 2.2. Самая длительная эпоха в истории человечества - Плейстоцен.
- 2.3. Золото было основным металлом, из которого производили орудия труда первобытные люди.
- 2.4. Коллектив крестьян родственных называется родовой общиной.
- 2.5. Люди эпохи палеолита уже умели пользоваться огнем.
- 2.6. Первым одомашненным животным была лошадь.

Ответ:

2.1	2.2	2.3	2.4	2.5	2.6
Да	Нет	Нет	Да	Да	Нет

Задание 3. (Максимум за задание - 5 баллов). Расставьте годы и века в верной хронологической последовательности.

- 1) II век до н. э. 2) 578 год до н. э. 3) 1945 год н. э. 4) XII век н. э. 5) 2023 год н. э.

Ответ:

А	Б	В	Г	Д
2	4	3	1	5



Задание 4. (Максимум за все задание 12 баллов) Перед вами различные изобретения человека, созданные еще с древнейших времен до наших дней. Рассмотрите изображения и выполните задания.



3



4



5 6



4.1. Сопоставьте изображения предметов с их названиями.

Номер изображения предмета	Название изделия
1	А. персональный компьютер
2	Б. паровой двигатель (паровая машина)
3	В. бензиновый двигатель внутреннего сгорания
4	Г. деревянный плуг
5	Д. шалаш
6	Е. ручной книгопечатный станок

Ответ:

1	2	3	4	5	6
А	Б	Г	В	Д	Е

Максимум за задание - 6 баллов. За каждую верную пару - 1 балл

4.2. Расположите предложенные предметы в порядке их изобретения человеком. В таблицу ниже выпишите буквы, которыми обозначены названия данных изобретений.

Ответ:



1	2	3	4	5	6
В	Д	Е	Б	А	Г

Максимум за задание - 6 баллов. За каждую верную пару - 1 балл

Задание 5. (Максимум за всё задание 8 баллов) Перед вами фотографии, иллюстрирующие деятельность историков.

5.1. Выберите номера изображений, связанных с работой археологов и запишите их.

1	2
---	---



3. 5.1 Ответ: 4, 5, 3. Максимум за задание – 3 балла.

5.2. Выбери верные и неверные утверждения. Ответы («да» – «нет») введи в таблицу.

1. Все профессии ученых, изображенных на картинке, связаны с археологией.
2. Работа этих ученых связана с изучением жизни современных людей.
3. В своей работе ученые - археологи используют лопаты и кисточки.
4. В ходе работы ученые проводят раскопки.
5. Ученые этой профессии изучают здания, украшения, наскальные рисунки, захоронения, оружие.

Ответ:

1	2	3	4	5
Нет	Нет	Да	Да	Да

Максимум за задание – 5 баллов. За каждое верно выбранное утверждение – 1 балл.

Задание 6. (Максимум за задание – 6 баллов, 2 балла за каждый правильный ответ.) Прочитай описание погребения, обнаруженного археологами на знаменитой стоянке Сутгирь во Владимирской области.

«Второе погребение, расположенное под пещерой, принадлежало взрослому мужчине. Покойник лежал на спине в вытянутом положении. При нем были найдены кремневый топор, скребло и обломок костяного предмета. Скелет был туго застлан сохой, и на нем лежали многочисленные бусы из бивня мамонта. Размещение бус, сохранивших периодическое положение, позволило реконструировать одежду. Костюм состоял из шерстяной рубашки, штанин, соединенных с обувью, и, возможно, юбки. На голове была надета шапка, богато украшенная бусами из

бития и просверленных дырок пещи. На руках были тонкие браслеты из бивня и нитки бус. Под коленями и на шиколотках также прослеживались перевязки из связок бус. По внутренней стороне ног нашлись бусы образовывали длинные лампасы, соединяющие штаны и обувь. Всего было найдено свыше 3 500 бусинок».

Что можно из этого описания узнать о жизни, занятиях, взрощавших людей, которые оставили этот памятник? Сделайте 3 вывода.

1. Древние люди изготавливали браслеты и нитки бус из бивня мамонта и костей животных.
2. Люди носили штаны, перевязанные бусами, браслеты и лампасы.
3. _____

Задание 7. (Максимум за задание 16 баллов, по 2 балла за каждую найденную и исправленную ошибку). Найдите в исторических ошибках в сличении ученика и исправьте их, выполнив таблицу.

Около 12 тысяч лет назад в природе ничего не изменилось. Шохотолпло, ледник стал быстро таять и отступать на юг. Приспособиться к новым условиям было легко и просто. Лохматая пещерелюдей ушла жювки. Пришлось оеивать охоту на крупного хищного зверя. Люди стали селиться в крупные пещеры, катакомбы. В поисках пищи племена палео были оставаться на одном месте. Было изобретено первое механическое оружие - кошке с камешком наконечником

Ошибка	Исправление	
1. В поисках пищи древние люди часто были вынуждены жить на открытых местах	Они жили в пещерах и не прятались	+
2. Люди изобрели лук и стрелы, копья, каменные наконечники для копий	Еще до ледника было изобретено копье и другие орудия	-
3. _____	_____	+
4. Ледник и крошечные мамонты	Не очень сильно Frost не баловало	-
5. Мамонты не извлеклись из земли	Не мамонты каменное	+
6. _____	Ледник стал отступать	+
7. Быстро таять	Ледник стал отступать	+
8. Крупного хищного зверя и на мелкого мамонта	до этого он был семейным	-

Задание 8. (Максимум за задание – 3 балла)

Решите задачу. ОБЯЗАТЕЛЬНО покажите арифметические действия.

1) В 1900 году археологами был раскопан могильник вождя, где найдены остатки бус из драгоценных камней, золотые и серебряные сосуды. Установлено, что захоронение было сделано за 7240 лет до его находки археологами. В каком году был захоронен вождь? Запишите решение и ответ. (3 балла)

Решение $1900 - 7240 = 5340$ до н.э. + 25

2) Считается, что первую пирамиду золотой Имхотеп начал строить в 2650 г. до н.э. Последняя пирамида построена в 1700 г. до н.э. Сколько лет прошло между постройкой первой и последней пирамиды? Сколько лет назад были построены последние пирамиды? Приведите свои вычисления. (3 балла)

Решение $2650 - 1700 = 950$ лет

Задание 9. (Максимум за задание – 5 баллов)

Прочитайте стихотворение В.Д. Берестова. Выполните задания.

Там первобытные люди Плели в первобытный лес. И первобытное солнце Глядело им в щель с небес. И ветр свистел в чапе Новопомог зверья, Какого еще ни разу Не выдвигали пока. Сквозил первобытный запа: «Ну, что ж, поиграйте с нами, Когда он будет побольше, Мы вместе его раскля!»	Щель. Первобытные люди Сидят первобытным швом. А первобытные вожди, Крадутся во мраке почвы. Без па первобытным людям Во сне беззащитны тельца. Как часто зверье брюхо Могилом делалось им. Но злых людоедов погуля, Залают отпавший зверёк.	И эти люди первобытных От гибели он уберёт С липой ходит на охоту Ок начал, когда подрост. Так другом стал человеку Весёлый и верный лес
--	---	---

9.1 Напишите, о взаимоотношении какого жанра древних людей идёт речь. (1 балл)

Отрывок из первобытного мифа

9.2 Укажите, когда это явление возникло. (1 балл)


Средневековье, восток и запад

9.3 Укажите не менее двух других животных, которых приручили человек в числе первых. (2 балла)

Собака, кошка

9.4 Напишите на карте название материка, который первобытные герои стихотворения могут считать своей «природной». (1 балл)

Восточная Африка



Задание 10. Выдели, насколько ты знаешь, несколько тун знаков с историей своей малой родины Югры. (Максимум за задание – 9 баллов).

10.1. Коренные народы Югры – ханты, манси и ненцы – всегда относились к природе с уважением и удивлением. Местом религиозного шествия становились целые ландшафты в форме священных урочищ, где совершались промыслы. Выбери священные места, где у коренных жителей Югры были совершены промыслы. (2 балла)

1. Царевная гора
2. Озеро Нумто
3. Барова гора
4. Озеро Шутья

Ответ: 1, 2, 3, 4 _____ 0


10.2 Выбери из списка профессиональные праздники, особо значимые для жителей Югры. (3 балла)

1. День моряка-подводника
2. День металлурга
3. День нефтяника
4. День работника атомной промышленности
5. День оленевода
6. День речного и морского флота


Ответ: 5, 3, 6 _____ 3

10.3. Сопоставь названия предметов быта коренных народов Севера с изображениями этих предметов, вписав в таблицу их номера. (4 балла)

_____ 1 _____ 2 _____



3



4



Ответ:

облас

3

чум

1

нарты

1

лабаз

2

ВСЕГО 75 БАЛЛОВ.

**Всероссийская олимпиада школьников по истории
2023/24 учебный год
Школьный этап**

Задания для участников 5-х классов

Шифр Ис-5-30

Инструкция по выполнению работ
Время на выполнение работы – 45 минут.
Максимальное количество баллов – 75.

Уважаемый участник!

При выполнении работы внимательно читай текст заданий. Содержите ответы вписывая в отведённые поля, писать надо чётко и разборчиво.

За каждый правильный ответ можно получить определённое количество баллов, но не более указанной максимальной оценки. Сумма набранных баллов за все решённые вопросы – итог работы.

Задания снимаются вышеступатями, если Вы вовремя сдали их членам жюри.

Желаем успеха!

Таблица для внесения баллов заполняется членами жюри

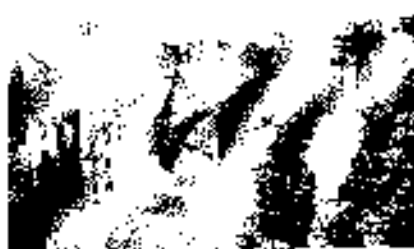
1	2	3	4	5	6	7	8	9	10	Общая сумма баллов	Место
0	5	2	7	6	6	1	0	5	6	39	Мризе, И.

Задание 1. (Максимум за задание – 3 балла). Перед вами фотографии, иллюстрирующие различные эпохи истории человечества. Выберите номера изображений, связанных с историей Древнего мира.

1 2



3 4



5

6



Ответ: 1, 2, 3, 4, 6, 8 Р

Задание 2. (Максимум за задание – 6 баллов, за каждый правильный ответ 1 балл). Верны ли следующие утверждения («да» – «нет»)? Ответы впишите в таблицу.

- 2.1. Около 2,5 млн лет назад появились люди, по своему облику похожие на современного человека.
- 2.2. Самая длительная эпоха в истории человечества – Чувос время.
- 2.3. Золото было основным металлом, из которого производили орудия труда первобытные люди.
- 2.4. Коллектив крошечных родомешников являлся родовой общиной.
- 2.5. Люди эпохи палеолита уже умели пользоваться огнем.
- 2.6. Первым одомашненным животным была лошадь.

Ответ:

2.1	2.2	2.3	2.4	2.5	2.6
да	нет	нет	да	да	нет

Задание 3. (Максимум за задание – 5 баллов). Расскажите годы и века в верной хронологической последовательности.

- 1) II век до н.э. 2) 478 год до н.э. 3) 1915 год н.э. 4) XII век н.э. 5) 2003 год н.э.

Ответ:

А	Б	В	Г	Д
4	2	1	3	5

Задание 4. (Максимум за задание 12 баллов). Перед вами различные изобретения человека, созданные им с древнейших времён до наших дней. Рассмотрите изображения и назовите изделия.



3



4



5 6



4.1. Соотнесите изображения предметов с их названиями.

Номер изображения предмета	Название изобретения
1	А. персональный компьютер
2	Б. паровой двигатель (паровая машина)
3	В. бензиновый двигатель внутреннего сгорания
4	Г. деревянный шуруп
5	Д. шуруп
6	Е. ручной или печатный станок

Ответ:

1	+	2	+	3	+	4	+	5	+	6	+	6
А		Б		В		Г		Д		Е		Е

Максимум за задание – 6 баллов. За каждую верную пару – 1 балл

4.2. Расположите представленные предметы в порядке их изобретения человеком. В таблицу ниже запишите буквы, которыми обозначены названия данных изобретений.

Ответ:

1	2	3	4	5	6	1	1
Б	Е	В	Г	Д	А		

Максимум за задание – 6 баллов. За каждую верную пару – 1 балл


Задание 5. (Максимум за всё задание 6 баллов) Перед нами фотографии, иллюстрирующие деятельность петриков.

5.1. Выберите номера изображений, связанных с работой археологов и запишите их.


1				2			
---	--	--	--	---	--	--	--



3



4



5



6



5.1 Ответ: 3, 4, 5; Максимум за задание – 3 балла.

5.2. Выбери верные и неверные утверждения. Ответы («да» – «нет») внеси в таблицу.

1. Все профессии ученых, изображенных на картинке, связаны с археологией.
2. Работа этих ученых связана с изучением жизни современных людей.
3. В своей работе ученые - археологи используют лопаты и лопаточки.
4. В ходе работы ученые проводят раскопки.
5. Ученые этой профессии изучают здания, украшения, наскальные рисунки, захоронения, оружие.

Ответ:

1	+	2	-	3	+	4	+	5	+
Мен		Вал		Вал		Уа		Уа	

Максимум за задание – 3 балла. За каждое верно избранное утверждение – 1 балл

Задание 6. (Максимум за задание - 6 баллов, 2 балла за каждый правильный ответ) Прочитайте описание погребения, обнаруженного археологами на знаменитой стоянке Сунцзы во Владимирской области.

«Второе погребение, расположенное под пещерой, принадлежало взрослому мужчине. Покойник лежал на спине в вытянутом положении. При нем были положены кремневый нож, серебро и обломок костяного предмета. Сделет был густо засыпан охрой, и на нем лежали многочисленные бусы и бивня мамонта. Размещение бус, сохранивших первоначальное положение, позволило реконструировать одежду. Костюм состоял из шерстяной рубахи, штанов, соединенных с обувью, и, возможно, шапки. На голове была найдена шапка, богато украшенная бусами и

бвляя и просверленных клячек пещи. На руках были тонкие браслеты из бвляя и нитки бус. Под коленями и на плечиках также прослежены шерстяки из связки бус. По внутренней стороне шот наплетены бусы образовывали длинные лампадки, соединяющие штаны и обувь. Всего было наплетено свыше 3 500 бусинок.

Что можно из этого описания узнать о жизни, занятиях, верованиях людей, которые обитали этот пещерник? Сделайте 3 вывода.

1. Можно узнать о занятиях людей - изготовление украшений из бвляя и нитки бус.
2. Можно узнать из этого как жили люди в пещере.
3. Можно узнать об одежде которую носили люди.

Задание 7. (Максимум за задание 16 баллов, по 2 балла за каждую найденную и исправленную ошибку). Найдите 8 исторических ошибок в сочинении ученика и исправьте их, заполнив таблицу.

Около 12 тысяч лет назад в природе ничего не изменилось. Похолодало, ледник стал быстро таять и отступать на юг. Приспособиться к новым условиям было легко в тундре. Жились пятилетний уклад жизни. Пришлось освоить охоту на крупного китного зверя. Люди стали оселиться в крупные пещеры, катакомбы. В поисках пищи для своих надо было оставаться на одном месте. Было изобретено первое механическое оружие - копье с каменным наконечником.

	Ошибка	Исправление	
1	Около 12 тысяч лет в природе ничего не изменилось.	Около 12 тысяч лет в природе было похолодало.	+
2	Приспособиться к новым условиям было легко в тундре.	Приспособиться к новым условиям было легко в пещере.	?
3			
4			
5			
6			
7			
8			

Задание 8. (Максимум за задание — 5 баллов)

Решите задачу. ОБЯЗАТЕЛЬНО напишите арифметические действия.

1) В 1900 году археологами был раскопан могильник вождя, где найдены остатки бус из драгоценных камней, золота и серебряные слюды. Установлено, что захоронение было сделано за 7740 лет до его находки археологами. В каком году был захоронен вождь? Запишите решение к ответ. (2 балла)

Решение 8860 год .

2) Считается, что первая пирамида египетской Имхотеп начал строить в 2750 г. до н.э. Последние пирамиды построены в 1700 г. до н.э. Сколько лет прошло между постройкой первой и последней пирамиды? Сколько лет назад была построена последняя пирамида? Приведите свои вычисления. (3 балла)

Решение 1050

Задание 9. (Максимум за задание — 5 баллов)

Прочитайте стихотворение В.Д. Берестова. Выполните задания.

<p>Раз первобытные дети Пошли в первобытный лес. И первобытные слюды Пшело на них с небес. И встретили дети в чапе Пещерного зверька. Какого слю им разу Но вглядывали лока. Сказал первобытный папа: «Ну, что ж, поиграйте с ним. Когда он будет побольше, Мы вместе его съедим».</p>	<p>Ночь. Первобытные люди Сидят первобытным сном. А первобытный папа так, Крадуют во мраке почвом. Бела первобытным людям Во сне беззащитным таким. Как часто зверьное брюхо — Могилою делалось им. Но злых людоедов почуяв, Заваял отважный зверьк.</p>	<p>И эти люди первобытных От гибели им уберёт С папой хитрым на окоду Он начал, когда толсно. Так другом стал человеку Веселый и верный лис</p>
--	--	---

9.1 Напишите, о возникновении какого занятия древних людей идёт речь (1 балл)

скотоводство

9.2 Укажите, когда это занятие возникло (1 балл)



10000-5000 лет до н.э.

9.3 Укажите не менее двух других животных, которых приручил человек в числе первых. (2 балла)

кошки, куры, пчелы, медведь

9.4 Напишите на карте название материала, который первобытные герои стихотворения могут назвать своей «рабочиной». (1 балл)

Африка



Ответ:

облае	рум	нарты	лабаз
3	4	4	2

ВСЕГО 75 БАЛЛОВ.

Handwritten mark

**Всероссийская олимпиада школьников по истории
2023/24 учебный год
Школьный этап**

Задания для участников 5-х классов

Шифр ММ - 5 - 321

Инструкции по выполнению работ
Время на выполнение работы – 45 минут.
Максимальное количество баллов – 75.

Уважаемый участник!

При выполнении работы внимательно читай текст заданий. Содержание ответа вписывай в отведённые поля, записывай вежливо и разборчиво.

За каждый правильный ответ можно получить определённое количество баллов, но не больше указанной максимальной оценки. Сумма набранных баллов за все решённые вопросы – итог работы.

Задания считаются выполненными, если Вы вовремя сдали их членам жюри.

Успехов!

Таблица для внесения баллов заполняется членами жюри

1	2	3	4	5	6	7	8	9	10	Общая сумма баллов	Место
1	5	3	4	8	0	6	2	0	10	39	Медведь

Задание 1. (Максимум за задание – 3 балла). Перед вами фотографии, иллюстрирующие различные эпохи истории человечества. Выберите номера изображений, связанных с историей Древнего мира.

1 2



3 4



5

6



1 Ответ: 6 _____

Задание 2. (Максимум за задание – 6 баллов, за «каждый правильный ответ / балл»). Першы ліч сцедушчы ўзвешчэння («ады» – «кнсты») ? Ответы ввнсыте в тэблїту.

- 2.1. Окело 2.5 тыс лет назад лївалїсь лїдзї, по снелму облїку нїходзїце на снвэрнелїмелїнаго челвекв.
- 2.2. Самая длїгельная эпоха в исторїи челвечеснелїа – Новелїе врелїа.
- 2.3. Золото бїло вевнвалїтв металлвм, ız которого првнвводїлї орудїя труда перїобїтнелїе лїдзї.
- 2.4. Коллектїа вровннх релїетелїелїков называлїсь релїовой общїной.
- 2.5. Лїдзї лїохв палсалї на узде умелї ıльзовалїсь оцелї.
- 2.6. Первїе одомашнелїе звїнотнелїе бїлї лїошадь.

Ответ:

2.1	+	2.2	+	2.3	+	2.4	+	2.5	-	2.6	+	5
«НЕМ» , «НЕМ» , «НЕМ» , «ГЕС» , «НЕМ» , «НЕМ»												

Задание 3. (Максимум за задание – 5 баллов). Расставьте голы и вецї в верной хронолїгїческой последователїности.

- 1) II век до н.э.
- 2) 478 год до ш.л.
- 3) 1945 год ш.э.
- 4) XII век н.э.
- 5) 2023 год н.э.

Ответ:

А	Б	В	Г	Д	3
II в. до н.э.	478 год до ш.л.	XII в. н.э.	1945 год н.э.	2023 год н.э.	

Задание 4. (Максимум за вей задание 12 баллов). Перелїчелїе рїзлїчнелїе ızобретелїя челвекв, созданные тм с древнейшїх врелїелї до нашїх днелї. Рїссмотрїте ızобрелїенїя ı нецелїнїте велїцїа.



3

4



5 6



4.1. Соотнесите изображения предметов с их названиями.

Номер изображения предмета	Название изобретения
1	А. персональный компьютер
2	Б. широчайший двигатель (паровая машина)
3	В. безымянный двигатель внутреннего сгорания
4	Г. деревянный стул
5	Д. табуф
6	Е. ручной книгопечатный станок

Ответ:

1	2	3	4	5	6	у
А	Б	В	Г	Д	Е	

Максимум за задание: 6 баллов. За каждую верную пару – 1 балл

4.2. Расположите представленные предметы в порядке их изобретения человеком. В таблицу ниже выпишите буквы, которыми обозначены широчайшие данные изобретений.

Ответ:

1	2	3	4	5	6	0
А	Б	В	Г	Д	Е	

Максимум за задание: 6 баллов. За каждую верную пару – 1 балл

Задание 5. (Максимум за все задание: 8 баллов) Перед вами фотографии, иллюстрирующие деятельность историков.

5.1. Выберите номера изображений, связанных с работой археологов и запишите их.

1

2



3



4



5



6



3.1 Ответ: 5, 6, 4. Максимум за задание - 3 балла.

3.2. Выбери верные и неверные утверждения. Ответы («да» «нет») введи в таблицу.

1. Все профессии ученых, изображенных на картинке, связаны с археологией.
2. Работа этих ученых связана с путешествием жизни современных людей.
3. В своей работе ученые - археологи используют лопаты и кисточки.
4. В ходе работы ученые проводят раскопки.
5. Ученые этой профессии изучают здания, украшения, наскальные рисунки, захоронения, оружие.

Ответ:

1	2	3	4	5
« Нет »	« Нет »	« Да »	« Да »	« Да »

Максимум за задание - 5 баллов. За каждое верно выбранное утверждение - 1 балл.

Задание 6. (Максимум за задание - 6 баллов, 2 балла за каждый правильный ответ). Прочтите описание погребения, обнаруженного археологами на знаменитой стоянке Сунцзюкь во Владимирской области.

«Второе погребение, расположенное под террасой, принадлежало взрослому мужчине. Покойник лежал на спине в вытянутом положении. При нем были положены кремневый топор, скребло и обломки костяного предмета. Скелет был густо засыпан охрой, а на нем лежали многочисленные бусы из бивня мамонта. Размещенные бусы сохранили первоначальное положение, позволяло реконструировать одежду. Костюм состоял из шерстяной рубашки, штанов, войлочных сапог, и, возможно, плаща. На голове была надета шапка, богато украшенная бусами из

бивня и присверленных вкладышей пещера. На руках были тонкие браслеты из бивня и шнурки бус. Под коленями и на щиколотках также прослежены перевязки из шнурков бус. По внутренней стороне ног нашивные бусы обрисовывали длинные лампасы, соединяющие штаны и обувь. Всего было найдено около 3 500 бусин.

Что можно из этого описания узнать о жизни, занятиях, верованиях людей, которые оставили этот шалашник? Сделайте 3 вывода.

1. Тяжелая жизнь в пещере длина из бивня и шнурки бус
2. _____
3. _____

Задание 7. (Максимум за задание 16 баллов, по 3 балла за каждую найденную и исправленную ошибку). Найдите 8 исторических ошибок в следующем тексте и исправьте их, записав таблицу.

Около 12 тысяч лет назад в природе шло не изменилось. Нахолодало, ледник сжал быстро-дуть и отступил на юг. Приспособиться к новым условиям было легко и просто. Дожились тысячелетий уклад жизни. Шлолось охотиться на крупного хищного зверя. Люди стали селиться в крупные пещеры, каменоломни. В поисках пищи пещерным людям было оставаться на одном месте. Было изобретено первое каменное оружие - копье с каменным наконечником.

	Ошибка	Исправление
1	Около 12 тысяч лет назад в природе шло не изменилось.	Около 12 тысяч лет назад ^{жизнь} было совсем ^{иное} .
2	Приспособиться к новым условиям было легко и просто.	было не просто.
3	Дожились тысячелетий уклад жизни.	каменья было оставлено на.
4	Шлолось охотиться на крупного хищного зверя.	охотились на
5	Люди стали селиться в крупные пещеры, каменоломни.	
6	В поисках пищи пещерным людям было оставаться на одном месте.	
7	Было изобретено первое каменное оружие - копье с каменным наконечником.	
8		

Задача 8. (Максимум за задание – 3 балла)

Решите задачи. ОБЯЗАТЕЛЬНО пишите арифметические действия.

1) В 1960 году археологами был раскопан монументальный вазон, где найдены остатки бус из драгоценных камней, золота и серебряные сосуды. Установлено, что захоронение было сделано за 7240 лет до его находки археологами. В каком году был захоронен вазон? Запишите решение и ответ. (3 балла)

Решение $1960 - 7240 = -5280$ \rightarrow 5280

2) Считается, что первую пирамиду египетский фараон начал строить в 2750 г. до н.э. Последние пирамиды построены в 1700 г. до н.э. Сколько лет прошло между постройкой первой и последней пирамиды? Сколько лет назад были построены последние пирамиды? Приведите свои вычисления. (3 балла)

Решение _____

Задача 9. (Максимум за задание – 3 балла)

Прочитайте стихотворение В.Д. Берестова. Выполните задания.

Раз первобытные дети
Попли в первобытный лес.
И первобытное солнце
Глядело на них с небес.
И встретили дети и чаше
Неведомого зверька,
Кого ещё ни разу
Не называли пока.
Сказал первобытный папа:
«Пу, что ж, поиграйте с ним,
Когда он будет побольше,
Мы вместе его съедим».

Почт. Первобытные люди
Слыт первобытным сном,
А первобытные ветки,
Кричат во мраке щёлком.
Беда первобытным людям
Во сне беззащитным тактам.
Как часто звериное брюхо –
Могилою делается им,
По злым людским почудам,
Завыл отважный зверь.

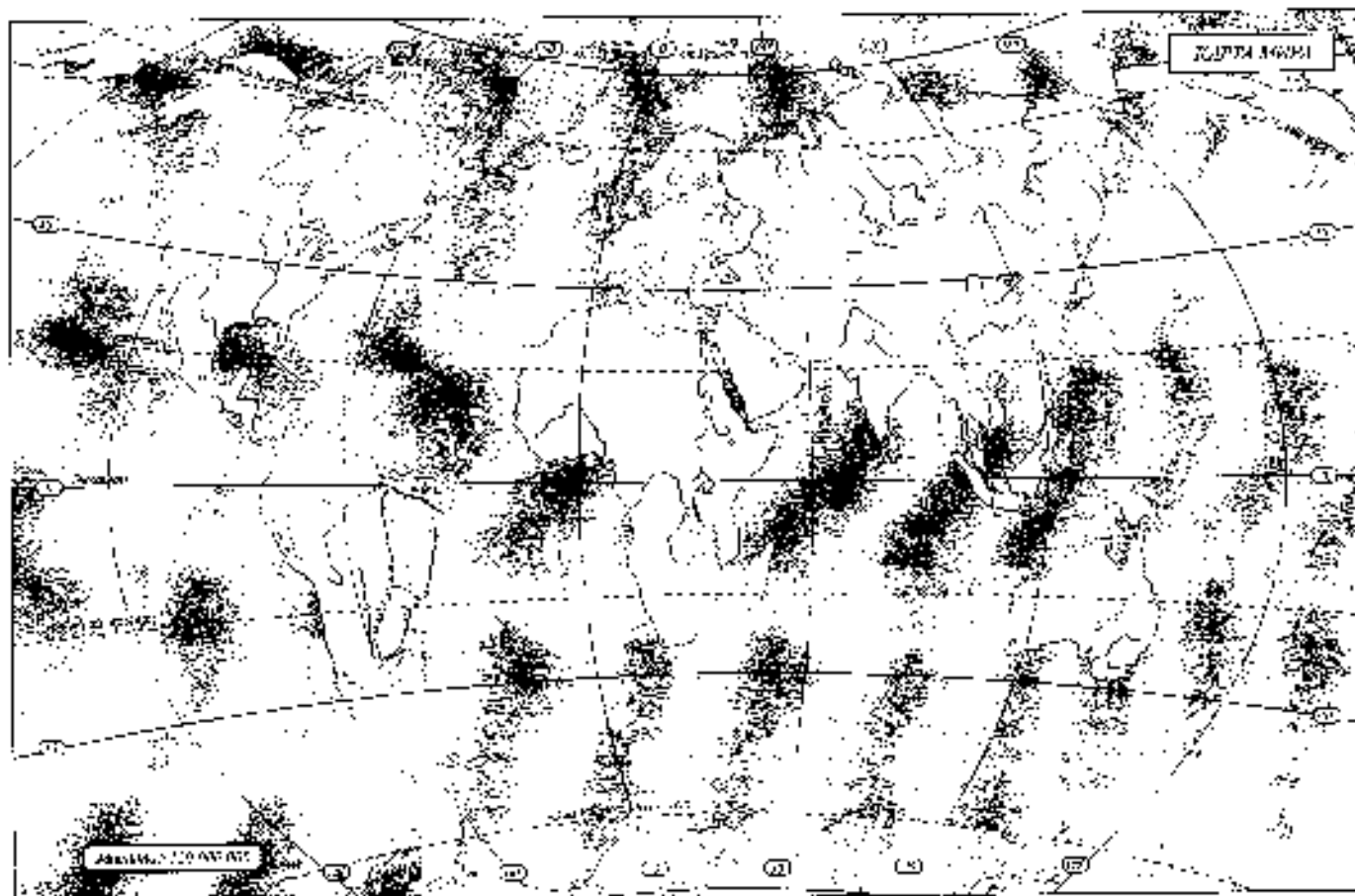
И эти люди первобытные
От гибели их уберёт
С палкой ходить на охоту
От пачал, когда подрос,
Так другом стал человеку
Восхвалит и мерзавец пёс

9.1. Помните, о каких временах жизни древних людей идёт речь (1 балл)

9.2. Укажите, когда это занятие возникло (1 балл)

9.3. Укажите не менее двух других животных, которых приручил человек в числе первых. (2 балла)

9.4. Назовите на карте название материка, который первобытные герои стихотворения могут назвать своей «патриотией». (1 балл)



Задание 10. Выясня, насколько ты знаком с историей своей малой родины: Югры. (Максимум за задание – 9 баллов).

10.1. Коренные народы Югры – ханты, манси и ненцы – всегда относились к природе с любовью и уважением. Местом редчайшего почвения стали целые ландшафты в форме оленевых урочищ, где запрещался промысел. Выбери священные места, где у коренных жителей Югры были запрещены промыслы. (2 балла)

1. Шаромаг гора
2. Озеро Шуэно
3. Барсова гора
4. Озеро Шучье

Ответ: 1, 2, 3, 4

10.2 Выбери из списка профессия и пять праздники, особо значимые для жителей Югры. (3 балла)

1. День моряка-подводника
2. День металлурга
3. День нефтяника
4. День рыбака атомной промышленности
5. День оленевода
6. День речного и морского флота

Ответ: _____

10.3. Сопнеси названия предметов быта коренных народов Севера с изображениями этих предметов, выходя в таблицу их номера. (4 балла)

_____ | _____ | _____ | _____ | _____ | _____



3



4



Ответ:

облас	чум	царгы	лабаз
-------	-----	-------	-------

ВСЕГО 75 БАЛЛОВ.